

TIPO: Diagnóstica
FUNCIÓN: Política
FINALIDAD: Diagn

TAREAS DIAGNÓSTICAS

ÁREA:
ESTUDIOS SOCIALES
AÑO LECTIVO: 2021-2022

NOMBRE:.....

GRADO:.....

FECHA:.....

PARALELO:

1. IDENTIFICA AL PERSONAJE DE INICIOS DEL SIGLO XIX

MUJER INDÍGENA TEJEDORA

MESTIZO

INDÍGENA AGUATERO

NEGRA MANDADERA




2. OBSERVE LAS SIGUIENTES IMÁGENES. ESCOJA Y ARRASTRE CON EL NOMBRE APROPIADO LOS MEDIOS DE TRANSPORTE DESDE LA FUNDACIÓN DEL ECUADOR.

CARRUAJE

AUTOMÓVIL

AUTOBÚS

FERROCARRIL



3. UNE CON UNA LÍNEA EL GRÁFICO CON LA RESPUESTA CORRECTA.
A LOS “TERRATENIENTES” SE LES CONOCÍA COMO:



SOLDADOS

POLICÍAS

PRESIDENTES

SEÑORES DE LA TIERRA

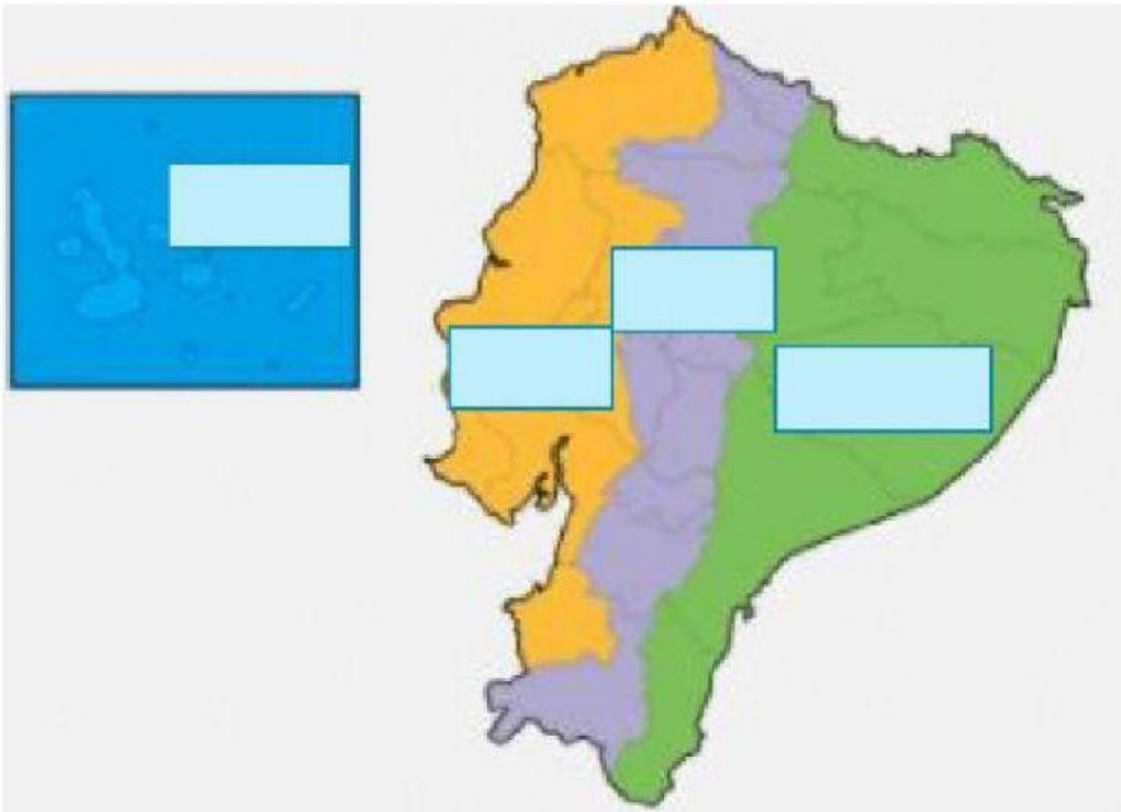
4. UBICA EL CARTEL EN LA REGIÓN NATURAL DEL ECUADOR AL QUE PERTENECE

GALÁPAGOS

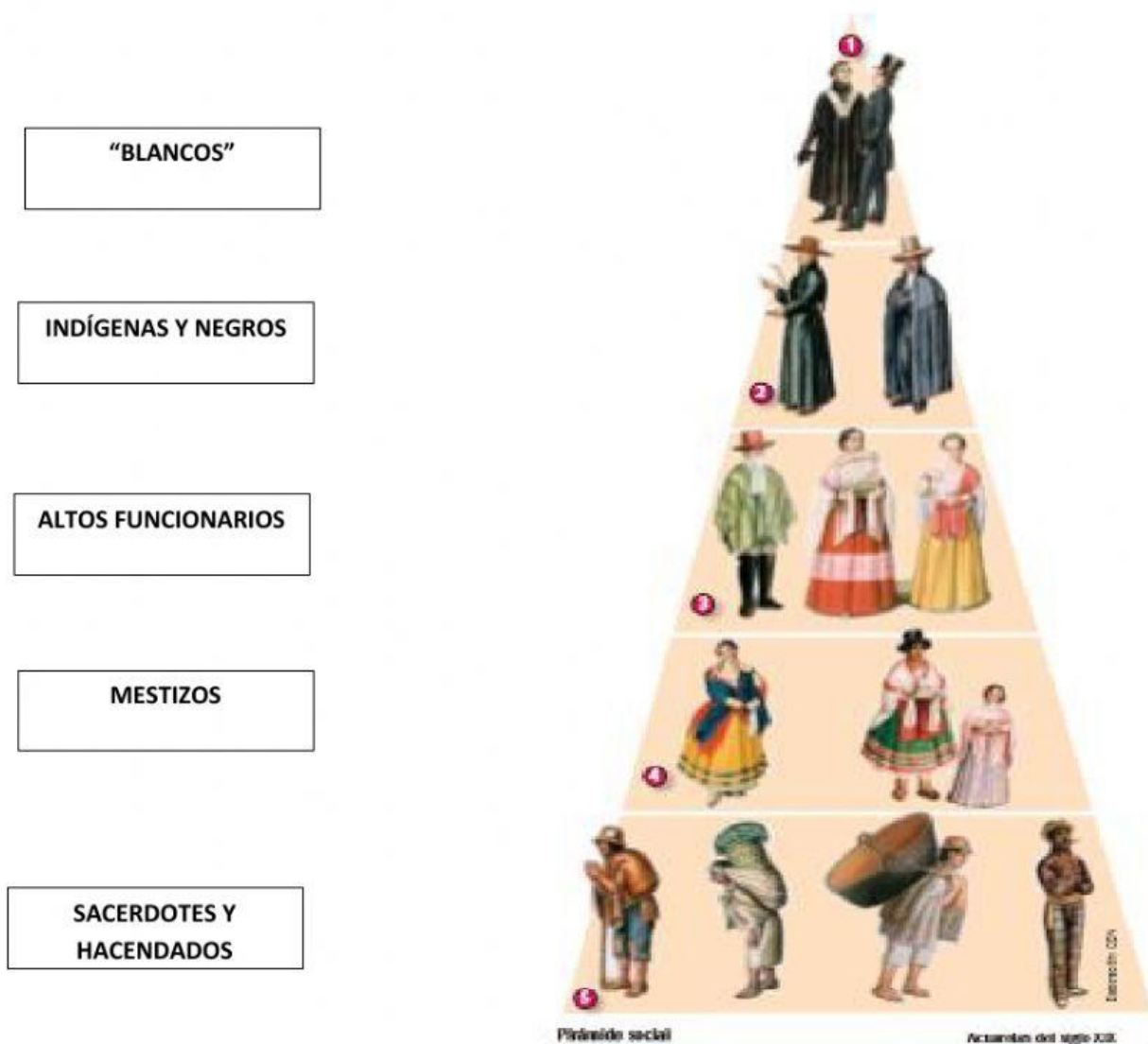
SIERRA

AMAZONÍA

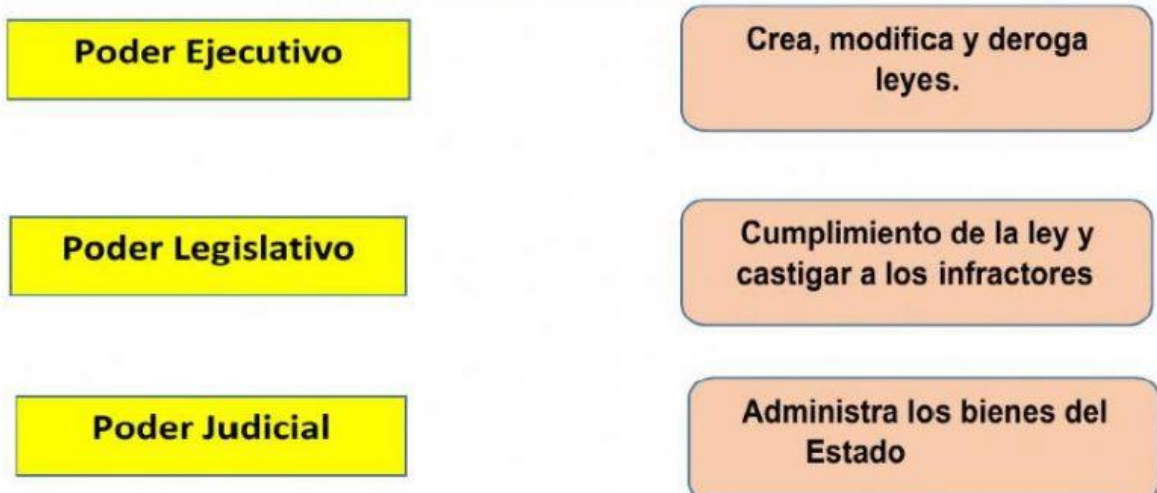
COSTA



5. UNA CON LÍNEAS SEGÚN CORRESPONDA LA PIRAMIDE SOCIAL EN EL ECUADOR DEL SIGLO XIX.



6. IDENTIFICA LAS FUNCIONES DE LOS TRES PODERES DEL ESTADO ECUATORIANO. RELACIONA CON EL QUE CORRESPONDA



7. COLOCAR LOS GRÁFICOS SEGÚN CORRESPONDA.

Derechos	Deberes



DOCENTE