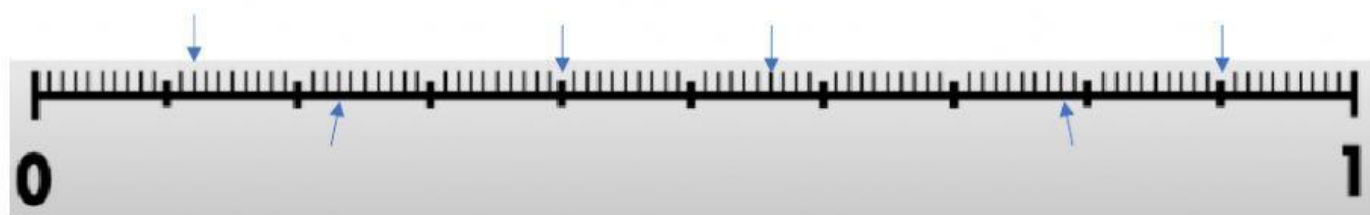


Números decimales en la recta numérica.

Si tienes dudas, puedes ver el siguiente video antes de responder:

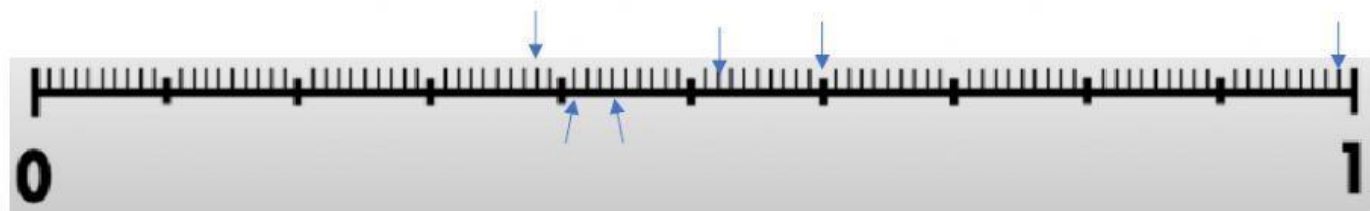
Ubica los siguientes números decimales en la recta: 0.56, 0.9, 0.23, 0.12, 0.4 y 0.78



¿Cuál es el valor más pequeño?

¿cuál el más grande?

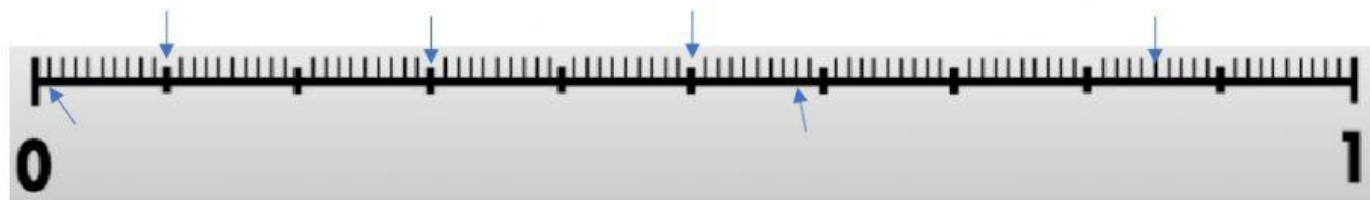
Ubica los siguientes números decimales en la recta: 0.38, 0.6, 0.52, 0.44, 0.41 y 0.99



¿Cuál es el valor más pequeño?

¿cuál el más grande?

Ubica los siguientes números decimales en la recta: 0.1, 0.01, 0.300, 0.58, 0.50 y 0.85



¿Cuál es el valor más pequeño?

¿cuál el más grande?