

Cuestionario de Preguntas para el Aporte Virtual Primer Quimestre

7mo Año General de Educación Básica

- Una con línea los conceptos sobre el funcionamiento de una cadena trófica

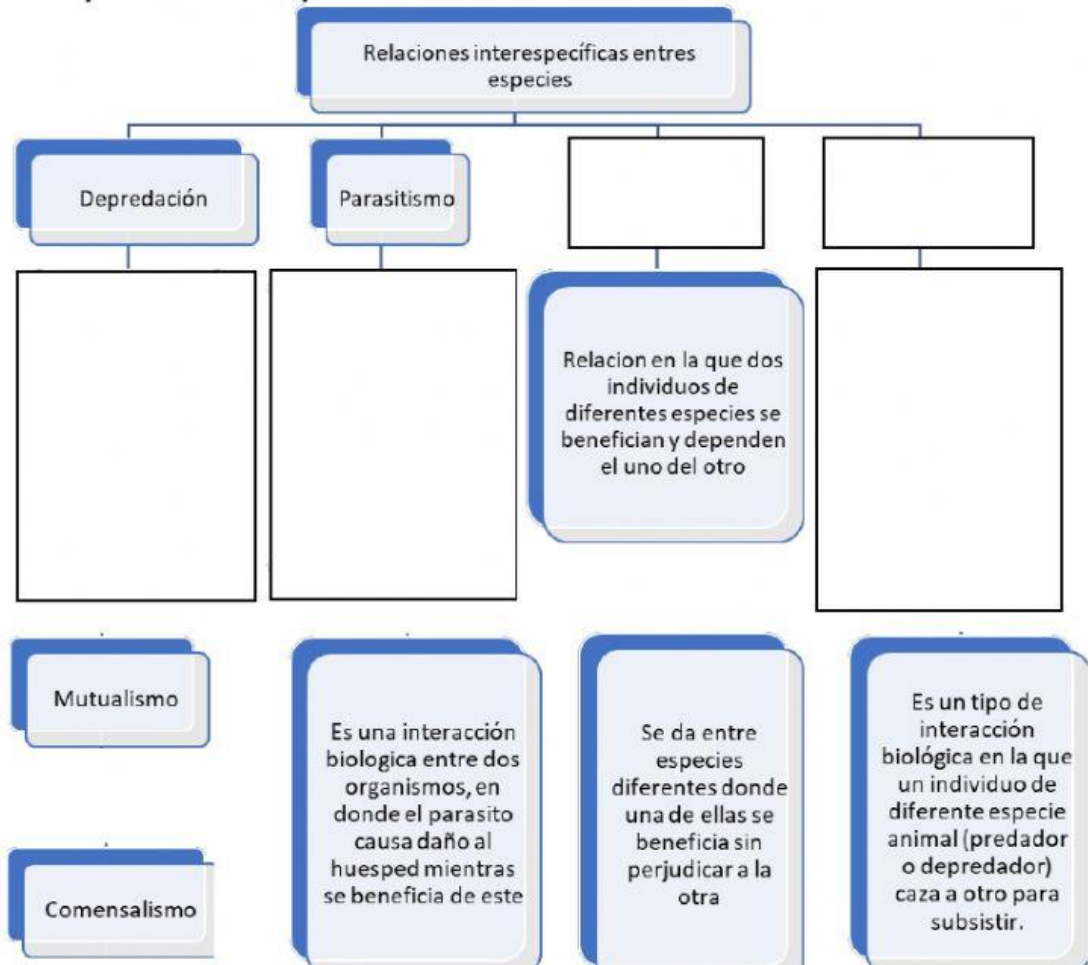
• Son **carnívoros** que se alimentan de otros **carnívoros** vivos o muertos. Conocidos como **superdepredadores**. Los **carroñeros**, son consumidores de animales muertos, también son consumidores terciarios. Ejemplos: águila y aves de rapiña, león, puma y cocodrilo.

Consumidores secundarios o de segundo orden
• Son **carnívoros** que se alimentan de **herbívoros**. Ejemplos: serpientes, zorros, lobos, pecarí de collar, sapo, rana y lagartija.

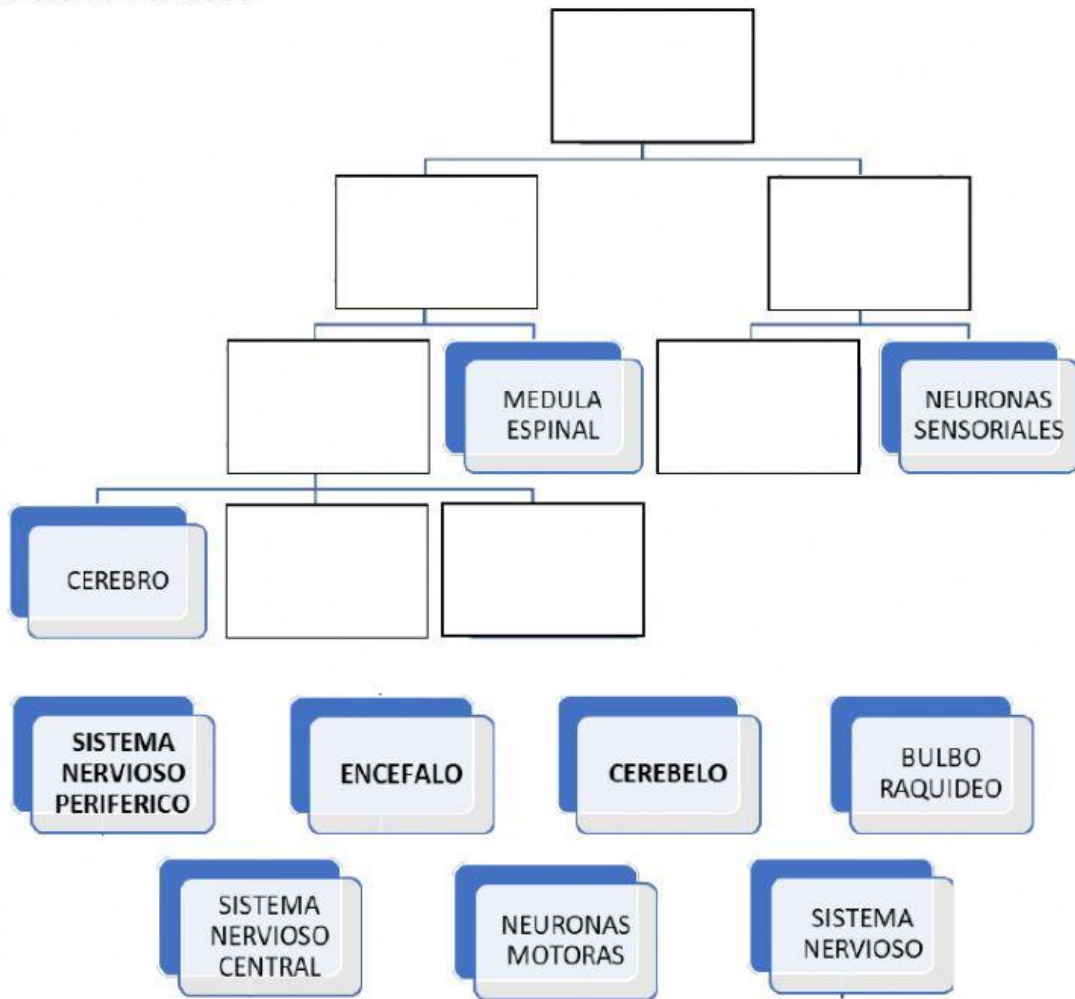
Consumidores primarios o de primer orden
• Son **herbívoros** que se alimentan de plantas. Ejemplos: conejos, roedores, venados, insectos, ganado vacuno y ovejuno.



- Mediante un esquema conceptual describa el tema de las relaciones interespecíficas de especies



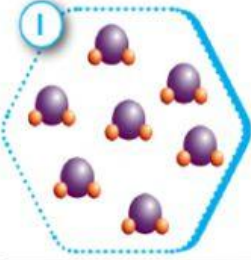
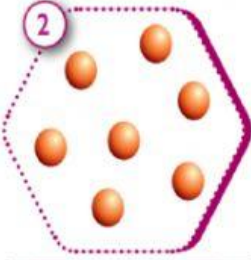
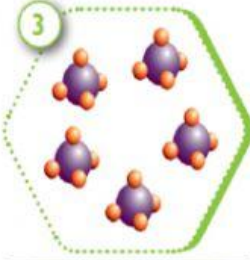
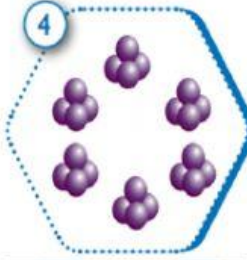
- Mediante un gráfico conceptual especifique como se conforma el sistema nervioso




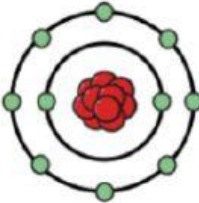

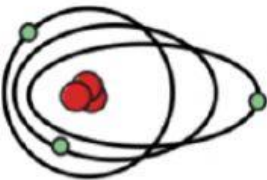

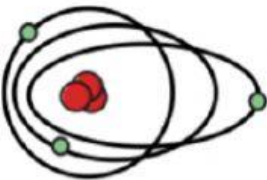

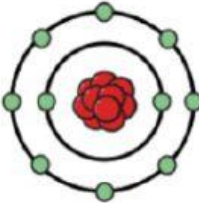
- Relaciona cada nombre de elemento con su símbolo

Hidrógeno	P
Litio	C
Carbono	Li
Sodio	Na
Fósforo	H

- Observa los siguientes diagramas. En ellos, cada esfera corresponde a un átomo. Selecciona en cuál representan elementos y en cuáles compuestos.

			
Elemento	Elemento	Elemento	Elemento
Compuesto	Compuesto	Compuesto	Compuesto

- Coloque respectivamente los autores de los siguientes modelos atómicos.

		MODELO RUTHERFORD
		MODELO DE BOHR
		MODELO SOMERFIELD
		MODELO DE THOMSON

- Une con líneas respectivamente los nombres de los elementos químicos en su símbolo correcto

20 40.078 Ca	12 24.305 Mg	28 58.693 Ni	18 39.948 Ar	30 65.38 Zn
MAGNESIO	ARGÓN	ZINC	CALCIO	NIQUEL