







## LOS CUADRILÁTEROS.


FÍJATE MUY BIEN EN EL CUADRO DE ABAJO. HASTA QUE NO TE LO SEPAS NO PASES A LA ACTIVIDAD SIGUIENTE.

Paralelogramos		No paralelogramos
Los lados son paralelos dos a dos.		No tienen los lados paralelos dos a dos.
<b>Cuadrado</b>  Todos los lados iguales. Todos los ángulos rectos.	<b>Rectángulo</b>  Lados iguales dos a dos. Todos los ángulos rectos.	<b>Trapecio</b>  Solo tiene dos lados paralelos.
<b>Rombo</b>  Todos los lados iguales. Ángulos iguales dos a dos.	<b>Romboide</b>  Lados iguales dos a dos. Ángulos iguales dos a dos.	<b>Trapezoide</b>  No tiene ningún lado paralelo.

VER EL SIGUIENTE VÍDEO.

ELIGE LA OPCIÓN CORRECTA. ELIGE SI ES PARALELOGRAMO O NO Y CÓMO SE LLAMA.

A



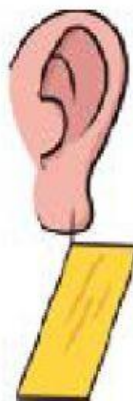
B



C



D



E



A	B	C	D	E