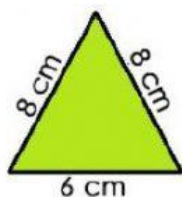




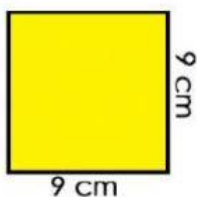
Gimnasio Rincón De Los Ángeles
Evaluaciones Bimestrales
Tercer Periodo
Segundo
2021

Nombre: _____ Fecha: _____

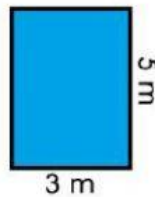
1. Calcula el perímetro de los siguientes polígonos



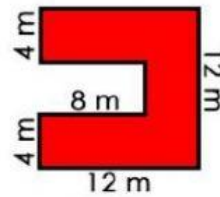
Perímetro: cm



Perímetro: cm



Perímetro: m



Perímetro: m

2. une con la figura que corresponda

Tengo 4 lados, dos son cortos y dos alargados.

Yo no tengo lados rectos, soy redondo como una moneda.

Tengo 4 lados exactamente iguales.

Tengo tres lados y tres puntas.

Tengo 4 lados iguales, pero no soy el cuadrado.

círculo



triángulo



rectángulo



rombo



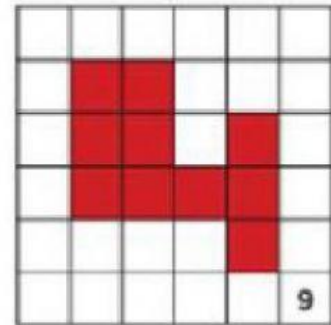
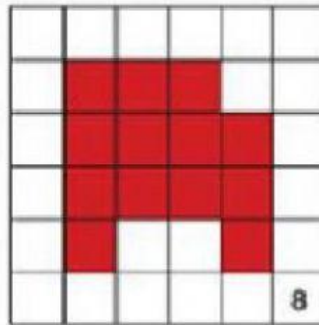
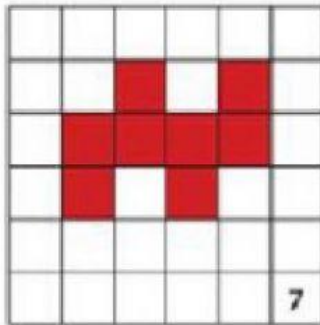
cuadrado



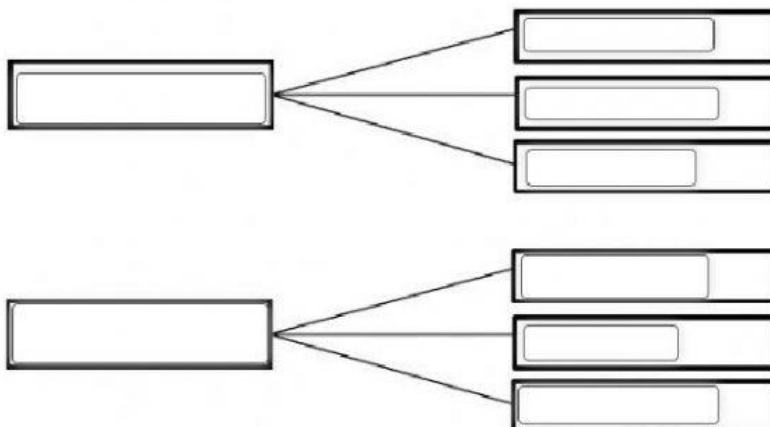


Gimnasio Rincón De Los Ángeles
Evaluaciones Bimestrales
Tercer Periodo
Segundo
2021

3. cuál es el área de las siguientes figuras



4. Luisa quiere comer, para ello en la taquería le ofrecen tacos y quesadillas con los siguientes rellenos papas, bistec, pollo



Luisa tiene opciones para comer.

5. Completa el cuadro con las combinaciones posibles

<div style="display: flex; align-items: center;"> F B </div>	 Manzana y leche		
	<input type="text"/>	<input type="text"/>	<input type="text"/>
	<input type="text"/>	<input type="text"/>	<input type="text"/>
	<input type="text"/>	<input type="text"/>	<input type="text"/>