





















Soccer Maths

How many soccer balls are there in each question below.

1.  +  = <input type="text"/> <input type="text"/> + <input type="text"/> = <input type="text"/>	6.  +  = <input type="text"/> <input type="text"/> + <input type="text"/> = <input type="text"/>
2.  +  = <input type="text"/> <input type="text"/> + <input type="text"/> = <input type="text"/>	7.  +  = <input type="text"/> <input type="text"/> + <input type="text"/> = <input type="text"/>
3.  +  = <input type="text"/> <input type="text"/> + <input type="text"/> = <input type="text"/>	8.  +  = <input type="text"/> <input type="text"/> + <input type="text"/> = <input type="text"/>
4.  +  = <input type="text"/> <input type="text"/> + <input type="text"/> = <input type="text"/>	9.  +  = <input type="text"/> <input type="text"/> + <input type="text"/> = <input type="text"/>
5.  +  = <input type="text"/> <input type="text"/> + <input type="text"/> = <input type="text"/>	10.  +  = <input type="text"/> <input type="text"/> + <input type="text"/> = <input type="text"/>



