

# MATEMÁTICAS




1. Coloca cada número en el lugar correspondiente:

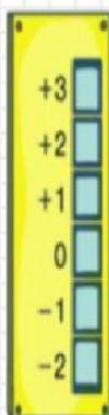
+8 +7 -4 -5 -3 9 1 -2 -11 -7 10  
25 +34 65 -73 +43 -20 -12 40 -9

Enteros positivos

Enteros negativos



2. Observa el esquema y contesta a las preguntas:



-Si Pablo está en la planta +1 y sube dos plantas, ¿a qué piso llegará?

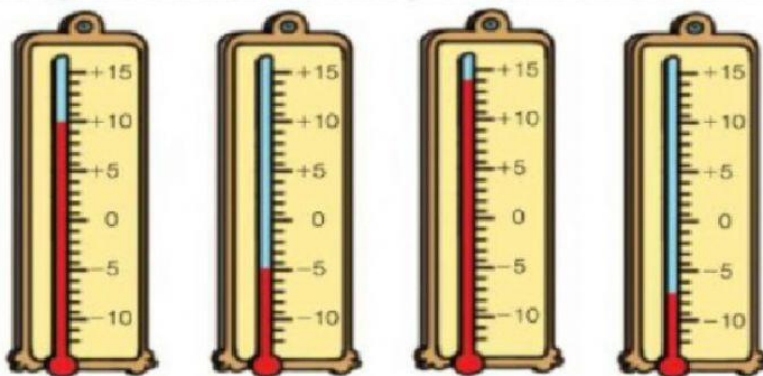
¿Qué tipos de números enteros son los que corresponden a los pisos superiores a la planta 0?

-Jon está en la planta baja, ¿qué número representa esa planta?

-Carla está en la planta 0 y baja una planta, ¿en qué planta está ahora Carla?

¿Qué tipos de números enteros son los que corresponden a los pisos inferiores a la planta 0?

3. ¿Qué temperatura marca cada termómetro?



°C

°C

°C

°C