



ESCUELA DE EDUCACIÓN BÁSICA PARTICULAR
"NUEVA SEMILLITA"
MACHALA – EL ORO – ECUADOR

EVALUACIÓN DE MATEMÁTICA CORRESPONDIENTE
AL SEGUNDO PARCIAL DEL PRIMER QUIMESTRE

NOMBRE: _____ GRADO: 2do "B"

1) Seleccionar lo correcto:

¿Quién llegó en Primer lugar?



¿Quién llegó en Cuarto lugar?



2) Ubicar el signo correspondiente:

45 39



25 50



55 55



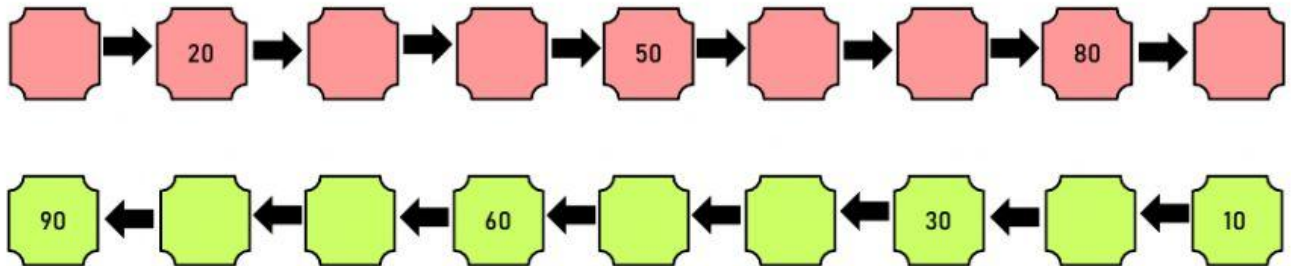
64 49



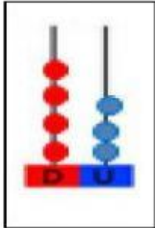
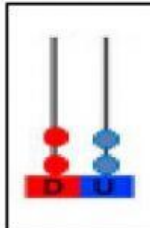
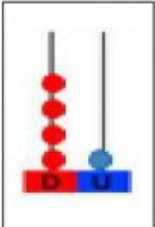
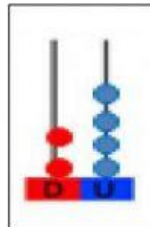
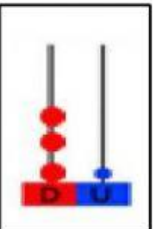
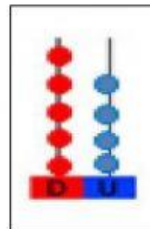

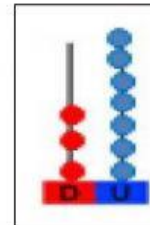
38 59



3) Completar las Decenas Puras en forma Ascendente y Descendente.



4) Unir las cantidades con la representación en el Ábaco.

| | D U | |
|---|----------------|---|
|  | <div>3 7</div> |  |
|  | <div>3 1</div> |  |
|  | <div>4 3</div> |  |
|  | <div>5 4</div> |  |
| | <div>2 1</div> | |
| | <div>4 1</div> | |
| | <div>2 4</div> | |
| | <div>2 2</div> | |