

SDN SEMANAN 07 PETANG PENILAIAN TENGAH SEMESTER TAHUN PELAJARAN 2021/2021		Nama :
		No. Absen :
Mata Pelajaran : Tema 1 (Subtema 3 &4)		Nilai :
Kelas : 1 (Satu)		
Waktu : 90 menit		
Tanggal :		

I. Berikan tanda silang (x) pada jawaban yang benar !

- Sebelum makan kita harus mencuci : ..
 - Mulut
 - Tangan
 - Telinga
 - Kaki
- Setelah bermain, kita berkeringat. Maka kita harus agar bersih
 - Mencuci
 - Duduk
 - Mandi
 - Istirahat
- Dalam sehari sebaiknya kita mandi Kali
 - dua
 - Tiga
 - Satu
 - Empat
- Gambar dibawah ini adalah gambar : ...

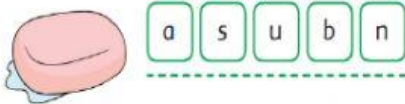


- cara memegang pensil yang benar
 - cara memegang pensil yang salah.
 - cara memegang pensil hamper benar.
 - a dan c benar.
- Gambar di bawah ini adalah gambar...

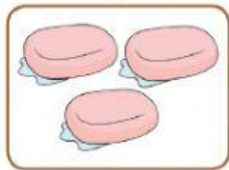


- Cara meletakkan buku yang benar ketika membaca.
- Cara meletakkan buku yang salah ketika membaca
- Cara meletakkan buku tidak benar ketika membaca
- Cara meletakkan buku yang hamper benar ketika membaca

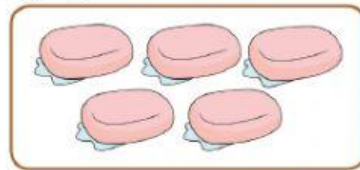
6. Susun huruf-huruf berikut menjadi kata yang tepat





- a. Sabun
b. bosun
c. subon
d. a dan b benar.
7. Huruf vocal yang terdapat pada kata “pasta gigi” adalah..
a. a dan o
b. a dan u
c. a dan e
d. a dan I
8. Huruf konsonan yang terdapat pada kata *bermain* adalah...
a. b, m, n
b. a,e, I
c. b, m, e
d. b, m, o
9. Agar gigi tidak sakit, sebelum tidur kita harus...
a. kumur- kumur.
b. Gosok gigi
c. Cuci tangan
d. Cuci muka
10. Manakah jumlah sabun yang lebih sedikit..



(A)



(B)

- a. A
b. B
c. AB
d. C
11. Perbandingan yang tepat adalah...
-  
- a. 10 lebih dari 6
b. 10 kurang dari 6
c. 10 sama dengan 6
d. 6 lebih dari 10

12. Perbandingan yang tepat adalah...



- a. 5 kurang dari 10
b. 5 lebih dari 10
c. 5 sama dengan 10
d. 5 sama dari 10

13. Bandingkan banyak shampoo dibawah ini. Isilah dengan lebih banyak dari/lebih sedikit dari.



1 sampo _____ 4 sampo

- a. sama dari
- b. lebih dari
- c. sama degan
- d. kurang dari

14. Setiap orang mempunyai kelebihan dan kekurangan masing-masing. Walaupun berbeda namun kita harus saling : ..

- a. Menyaingi
- b. Menyayangi
- c. Menyantuni
- d. Menyinnngung

15. Perbedaan membuat kita saling ... dan ...

- a. Mengenal dan menghargai
- b. Mengenal dan Menyaingi
- c. Mengenal dan membenci
- d. mengenala dan menghindar

16. Temukan huruf konsonan yang ada di gambar di bawah ini !



- 1. a. b h n p t f m a
- 2. c. b h n p t o m z
- 3. b. b h n p t f m z
- 4. d. b h o p t f m z

17. Susun huruf-huruf berikut menjadi kata yang tepat




- a. menyayi
- b. menyani
- c. menyanyi
- d. menanyi

18. Huruf vokal dari kata dibawah ini adalah...

istimewa

- a. stmw
- b. stmi
- c. stme
- d. semw

19. Jumlah tomat yang dibeli Udin seluruhnya ada _____ buah.



- a. 6
b. 4
- c. 8
D. 9

20. Di pohon pertama tumbuh 3 pepaya. Di pohon yang kedua tumbuh 2 pepaya. Banyak pepaya seluruhnya ada _____ buah.

- a. 7
b. 5
- c. 9
d. 12

II. Jawablah pertanyaan di bawah ini dengan tepat !

21. Sebutkan macam- macam kegemaran yang ada di rumah!

22. Sebutkan makanan kesukaan yang ada pada teks bacaan di bawah ini!

Siti sering melakukan kegiatan bersama keluarga.

Hari ini Siti dan keluarga makan siang di taman.

Ibu memasak makanan kesukaan keluarga.

Siti menyukai ayam goreng.

Ayah menyukai pepes tahu.

Ibu menyukai sayur asam.

Siti dan keluarga memiliki kesukaan berbeda.

Siti dan keluarga tetap makan bersama.

23. Sebutkan contoh perbedaan yang patut kita syukuri !

24. Perbedaan membuat kita saling ... dan ...

25. Susun huruf-huruf berikut menjadi kata yang tepat.

a. e m n y i y a n

b. n a r o k

26. Perhatikan teks puisi di bawah ini!

Aku Sayang Ibu

Ibu ...

Kala ku gembira, kau memelukku

Kala ku sedih, kau menghiburku

Kala ku sendiri, kau menemaniku

Kala ku sakit, kau merawatku

Ibu ...

Betapa besar kasih sayangmu

Betapa luas samudra hatimu

Ku hanya ingin engkau tahu

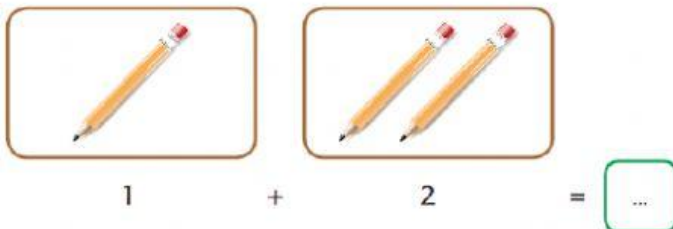
Sungguh aku sayang padamu

Teks puisi di atas menceritakan tentang

27. Sebelum pulang, Udin melihat penjual donat. Udin membeli 3 buah donat coklat. Udin juga membeli 5 buah donat keju. Berapakah jumlah donat yang udin beli...

28. Di pohon pertama ada 3 apel Di pohon yang kedua ada 2 apel. Banyak apel seluruhnya ada ____ buah.

29. Berapakah jumlah pensil yang terdapat pada gambar...



30. Berapakah jumlah penghapus yang terdapat pada gambar...

