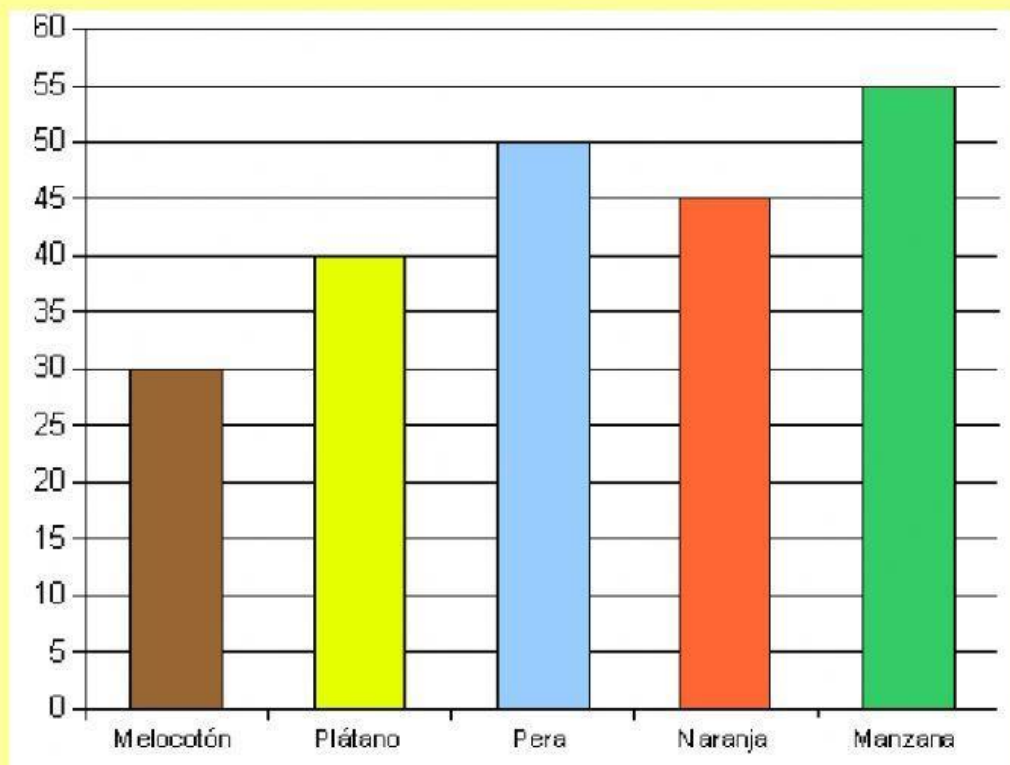


Analizamos Gráficas

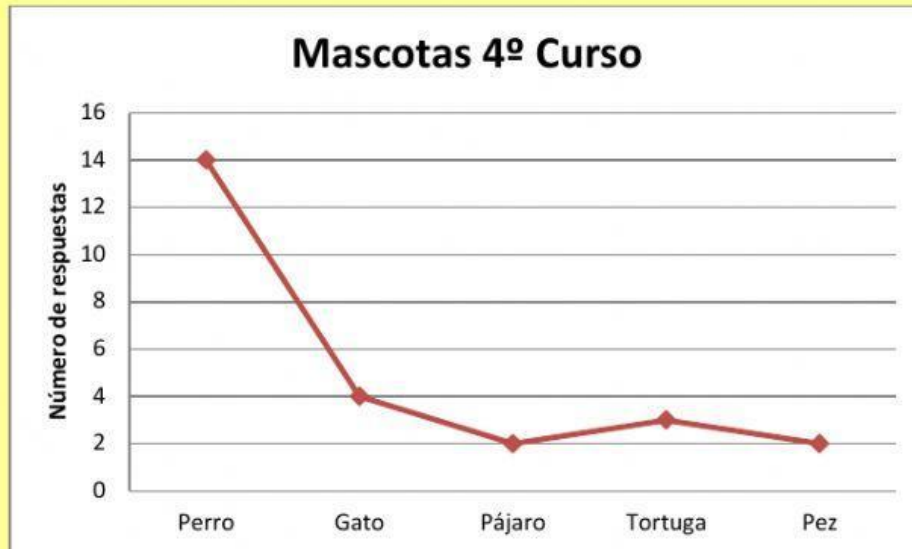
Durante toda la semana pasada hemos ido anotando la fruta consumida en el comedor del cole y los datos se han recogido en una tabla pero se nos han borrado. Ayúdanos a completar la tabla y después responde a las preguntas (Todo minúscula):

Melocotón	Plátano	Pera	Naranja	Manzana








- ¿Cuánta fruta se ha consumido en toda la semana?
- ¿Qué fruta es la elegida por los alumnos del cole?
- ¿Cuál les gusta menos?
- Si todos los días se queda el mismo número de alumnos en el comedor, ¿cuántos se quedan cada día? (Elige la operación correcta)
- ¿Cuál es la diferencia entre la fruta más consumida y la menos? (Elige la opción)
- ¿Qué prefieren, plátano y manzana o pera y naranja?

En nuestro cole hemos preguntado sobre la mascota preferida de los alumnos y alumnas de 4º curso de Primaria, y los datos se han recogido en el siguiente gráfico:



- Completa la tabla

- ¿Cuál es la mascota preferida por los alumnos y alumnas de 4º Curso?

- ¿Cuál prefieren, los pájaros o los peces?

- ¿Cuántos gatos harían falta para igualar el número de perros y tortugas juntos?

- ¿Qué animal tienes o te gustaría tener como mascota?