

ESCOLA MUNICIPAL CONSELHEIRO JOSINO

LABORATÓRIO DE TECNOLOGIAS DIGITAIS

PROFESSORA: Andréa Jardim

DATA:

ALUNO (A):

TURMA: 2º Ano


CAMPO DO CONHECIMENTO: Ciências Humanas - História

CÓDIGO: EF02MA03

HABILIDADES: Comparar quantidades de objetos de dois conjuntos por estimativa para indicar "tem mais", "tem menos" ou "tem a mesma quantidade" quando for o caso, quantos a mais e quantos a menos.

COMPARANDO QUANTIDADES


1. MARIA É COSTUREIRA E PRECISA ORGANIZAR OS BOTÕES QUE ESTAVAM MISTURADOS EM UMA CAIXA. VEJA:



A- DÊ UM PALPITE DE QUANTOS BOTÕES VOCÊ ACHA QUE TEM DENTRO DA CAIXA DE MARIA.


B- AGORA CONTE QUANTOS BOTÕES HÁ DENTRO DA CAIXA E RESPONDA SE SEU PALPITE É IGUAL, MAIOR OU MENOR A QUANTIDADE QUE REALMENTE TEM. _____

2. OBSERVE OS CONJUNTOS A SEGUIR E MARQUE AQUELE QUE **TEM MAIS** ELEMENTOS:



QUANTOS A MAIS? _____

3- CONTE OS PATINHOS DE 3 EM 3, DEPOIS RESPONDA:



- a) QUANTOS PATINHOS TEMOS NO TOTAL? _____
- b) QUANTOS GRUPOS VOCÊ CONSEGUE MONTAR CONTANDO DE 3 EM 3? _____
- c) QUANTOS PATINHOS SOBRARAM? _____

4- RESPONDA:

JOÃO COLECIONA CARRINHOS, MARIA COLECIONA BONECAS E JUCA COLECIONA MOEDAS.

RESPONDA:

- 1) QUEM TEM A MAIOR COLEÇÃO? _____
- 2) QUEM TEM A MENOR COLEÇÃO? _____
- 3) DE QUANTOS CARRINHOS JOÃO PRECISA PARA QUE SUA COLEÇÃO TENHA A MESMA QUANTIDADE DA COLEÇÃO DE JUCA? _____



TOTAL: _____



TOTAL: _____



TOTAL: _____