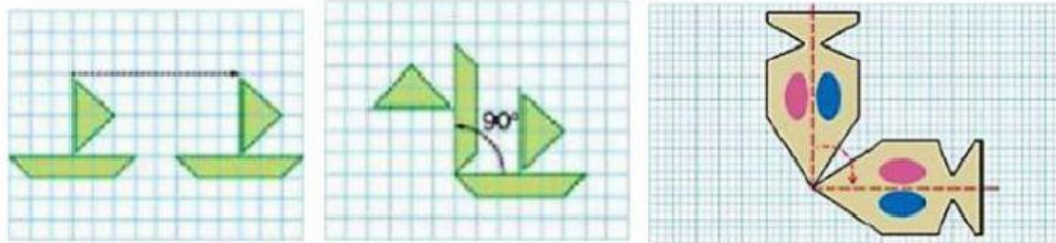


PRUEBA INICIAL 6º DE PRIMARIA MATEMÁTICAS C. MONTEPINAR
BLOQUE 4: GEOMETRÍA

1. Indica si los siguientes pares de rectas son paralelas, secantes o perpendiculares:



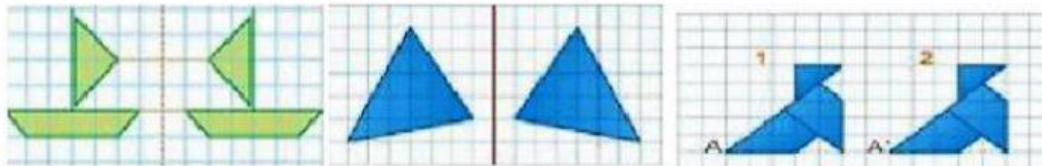
2. Indica si estas imágenes representan una simetría, una traslación o un giro:



A)

B)

C)

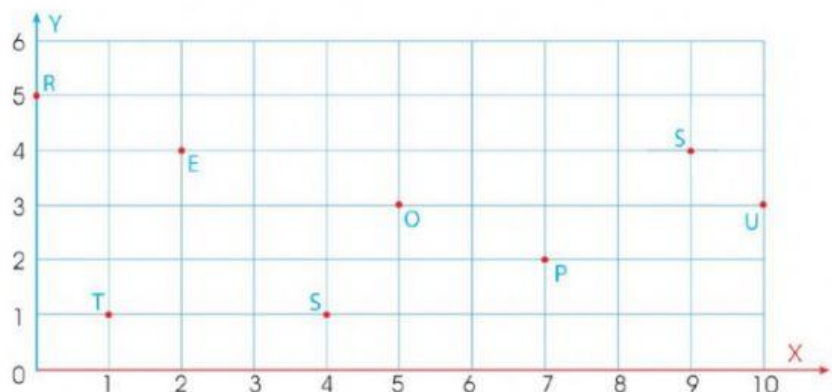


D)

E)

F)

3. Indica qué letra del plano de coordenadas cartesiano corresponde a cada una de las coordenadas y descifra el mensaje oculto:



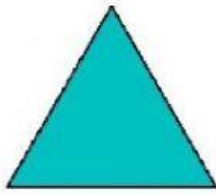
(2;4) (0;5) (2;4) (4;1)


(0;5) (2;4) (9;4) (7;2) (2;4) (1;1) (10;3) (5;3) (4;1) (5;3)


--	--	--	--

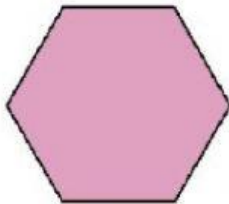
--	--	--	--	--	--	--	--	--	--

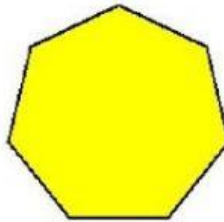
4. Clasifica los siguientes polígonos regulares según su número de lados.




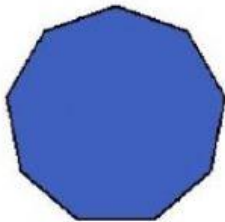


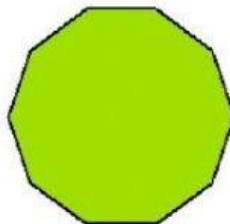








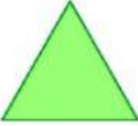
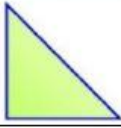





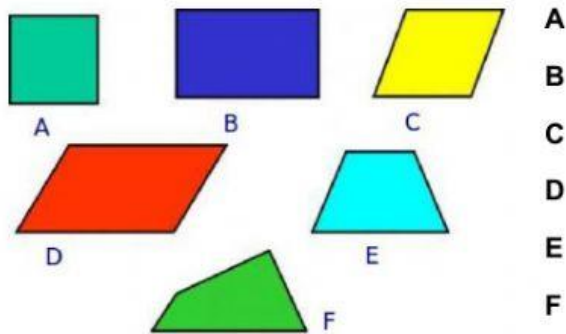
5. Clasifica los siguientes triángulos según sus lados:

CARACTERÍSTICAS:	DIBUJO:	NOMBRE:
Tres lados iguales.		
Dos lados iguales.		
Tres lados desiguales.		

6. Clasifica los siguientes triángulos según sus ángulos:

CARACTERÍSTICAS:	DIBUJO:	NOMBRE:
Tres ángulos agudos.		
Un ángulo recto.		
Un ángulo obtuso.		

7. Escribe el nombre de los siguientes cuadriláteros y contesta las preguntas:



- ¿Cuáles tienen sus lados paralelos dos a dos?
- ¿Cuáles no tienen ningún lado paralelo?
- ¿Cuáles tienen todos sus ángulos iguales?

8. Escribe el nombre de los elementos que se indican con las flechas:

Elementos de una

Diámetro.

Centro.

Arco.

Cuerda.

Radio.

Semicircunferencia.

