

LEMBAR KERJA PESERTA DIDIK (LKPD)

KELAS III

TEMA 3

MENYAYANGI TUMBUHAN DAN HEWAN

SUB TEMA 2

MENYAYANGI TUMBUHAN

PEMBELAJARAN 5



NAMA :

NO ABSEN :

PETUNJUK MENGERJAKAN LKPD

1. Cantumkan identitas diri kalian pada halaman pertama LKPD ini.
2. Lakukan setiap langkah kerja yang ada pada LKPD dengan hati – hati.
3. Setiap Kegiatan dalam LKPD sudah dilengkapi dengan langkah – langkah pengerjaannya.
4. Kerjakan dengan penuh tanggung jawab dan disiplin.
5. Jika ada yang belum dipahami, kalian boleh bertanya kepada guru.
6. Jika telah selesai mengerjakan, kalian bisa mengumpulkan hasil LKPD yang sudah lengkap pada guru.

— SELAMAT BEKERJA —

KEGIATAN 1

A. TUJUAN PEMBELAJARAN

3.5.1 Menganalisis pertanyaan untuk wawancara mengenai cara-cara perawatan tumbuhan

4.5.1 Menampilkan hasil wawancara mengenai cara-cara perawatan tumbuhan.

B. LANGKAH – LANGKAH KEGIATAN

1. Buatlah 5 pertanyaan mengenai cara-cara perawatan tumbuhan. Tuliskan pada tabel berikut ini.

NO	PERTANYAAN
1	
2	
3	
4	
5	

2. Wawancara orang tuamu (ayah atau ibu) dengan menanyakan 5 pertanyaan yang sudah kamu buat di atas.

Tuliskan hasil wawancaramu pada tabel berikut!

NO	JAWABAN
1	
2	
3	
4	
5	

KEGIATAN 2

A. TUJUAN PEMBELAJARAN

3.3.1 Menganalisis tugas anggota keluarga sesuai dengan perannya dalam kehidupan sehari-hari di rumah sebagai wujud pengamalan sila Pancasila yang dilambangkan dalam “Garuda Pancasila”.

B. LANGKAH – LANGKAH KEGIATAN

1. Diskusikan dengan teman dan orang tuamu! Tariklah kotak dibawah pada tabel yang sesuai dengan tugas ayah, ibu dan anak di rumah!

Tugas Anggota Keluarga		
Ayah	Ibu	Anak

Belajar	Menghormati orang tua	Menyiapkan makanan
Menyiram tanaman	Mencintai anak	Merapikan tempat tidur
Mencari nafkah	Melindungi keluarga	Membersihkan kamar
Merawat keluarga	Merapikan mainan	Menyiapkan tas untuk sekolah

KEGIATAN 3

A. TUJUAN PEMBELAJARAN

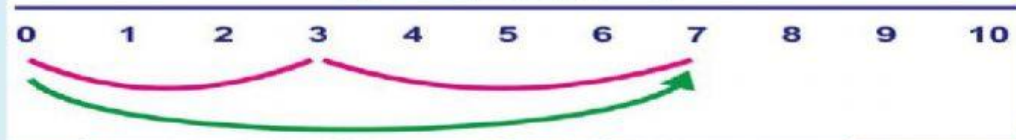
3.2.1 Menganalisis posisi bilangan cacah pada garis bilangan.

4.2.1 Memecahkan masalah penjumlahan bilangan cacah dengan menggunakan garis bilangan.

B. LANGKAH – LANGKAH KEGIATAN

1. Berdasarkan gambar berikut ini tentukan operasi penjumlahannya.

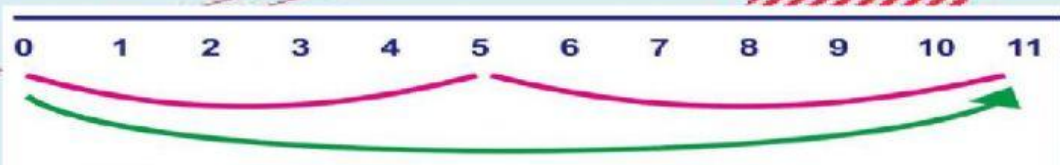
a)



Jawaban:

... + ... = ...

b)

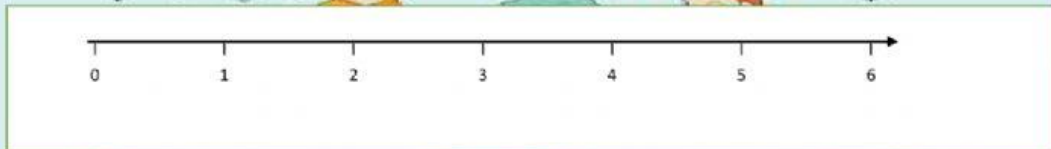


Jawaban:

... + ... = ...

2. Buatlah garis bilangan untuk penjumlahan berikut ini pada tempat yang telah disediakan.

a) $2 + 3 = \dots$



b) $1 + 3 = \dots$

c) $4 + 4 = \dots$

