



Escribe la clase de conjunto que se está representando en el recuadro:

A. $B = \{1, 2, 3, 4, 5, 6, 7, 8, 9\}$

B. $T = \{\text{perros con cinco ojos}\}$

C. $M = \{\text{enero, febrero, marzo, abril, mayo, junio, julio, agosto, septiembre, noviembre, diciembre}\}$

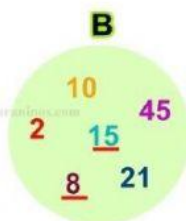
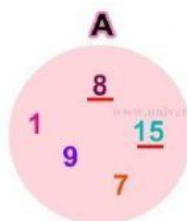
ESCRIBE UN SUBCONJUNTO DEL SIGUIENTE CONJUNTO



A

t=

Observa los siguientes conjuntos y escribe SI o NO según el enunciado.



a. $8 \notin A$

b. $21 \notin A$

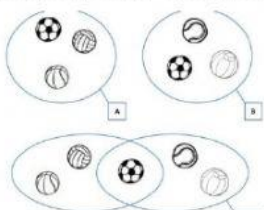
c. $7 \in A$

d. $2 \in A$

El Conjunto esta en extensión escribe verdadero o falso

$W = \{\text{animales acuáticos}\}$

Observa los siguientes conjuntos y escribe cual es verdadera y cual es falsa



La unión de conjuntos es:

A. $A \cup B = \{\text{FÚTBOL, BÉISBOL, BALONCESTO, VOLEIBOL, JUEGO}\}$

B. $A \cup B = \{\text{FÚTBOL}\}$

La intersección de los conjuntos es:

A. $A \cap B = \{\text{FÚTBOL}\}$

B. $A \cap B = \{\text{FÚTBOL, BÉISBOL, BALONCESTO, VOLEIBOL, JUEGO}\}$