


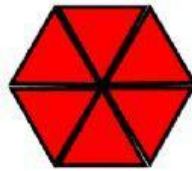
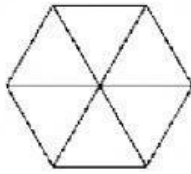


1. Selecciona la figura correcta que representa a la fracción que te indica.

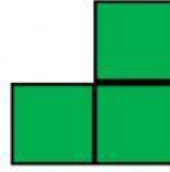

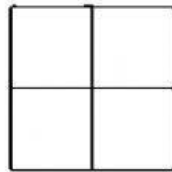


Selecciona la figura correcta.

a) $\frac{2}{6}$ de la figura.



b) $\frac{3}{4}$ de la figura.





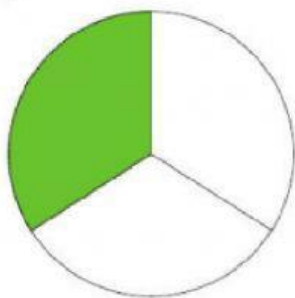
Selecciona la figura correcta.

2. Identifiquen y escriban qué parte de las siguientes figuras está sombreada.




Selecciona la respuesta correcta.

a) b) c)



d)



3. Consideren que los cuatro cuadrados tienen el mismo tamaño.



Figura 1



Figura 2




Figura 3



Figura 4

a) ¿Qué fracción representa la parte sombreada en la figura 1?

Selecciona la
respuesta correcta.


b) ¿Qué parte de la figura 2 representa la parte sombreada?

c) ¿Qué fracción representa la parte sin sombrear de la figura 3?


d) ¿Qué parte de la figura 4 no está sombreada?




4. Consideren que los cuatro cuadrados tienen el mismo tamaño.




Cuadrado 1



Cuadrado 2



Cuadrado 3



Cuadrado 4

- ¿Qué fracción representa la parte sombreada de cada cuadrado?

Cuadrado 1: _____

Cuadrado 2: _____

Cuadrado 3: _____

Cuadrado 4: _____

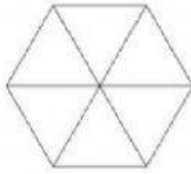


Selecciona la
respuesta correcta.

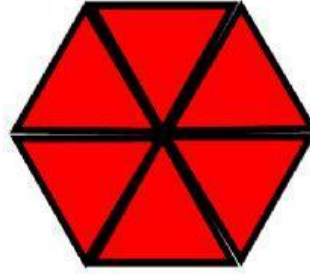




a) $\frac{2}{6}$ de la figura.


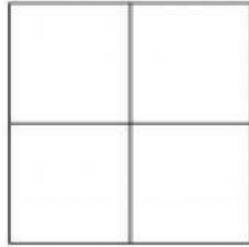


b) $\frac{3}{4}$ de la figura.



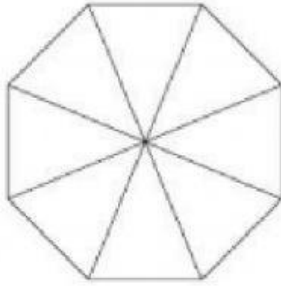
1. Arrastra triángulos y cuadrados y forma las fracciones que se te indican.

Posiblemente harás varios intentos hasta que formes las fracciones que se te indican.

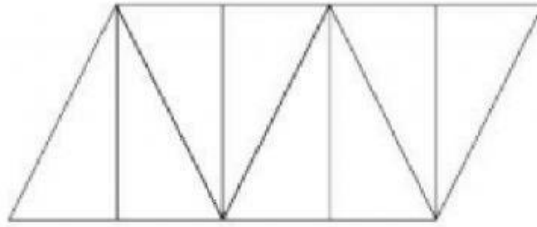




c) $\frac{5}{8}$ de la figura.



d) $\frac{1}{8}$ de la figura.



Arrastra triángulos y forma las fracciones que se te indican.

Posiblemente harás varios intentos hasta que formes las fracciones que se te indican.

