

Problemas - 2º de Primaria

Paloma tenía 53 euros. Ha pagado 29 euros para ir de excursión al zoo.
¿Cuántos euros le quedan a Paloma?



Datos:

Tenía .

Ha pagado .

Operaciones:










D U

	<input type="text"/>	<input type="text"/>
<input type="text"/>	<input type="text"/>	<input type="text"/>
<hr/>		
	<input type="text"/>	<input type="text"/>



Resultado:

Le quedan euros.

Fuente: Nacho Verdejo García

			14
			17
			20
18	18	15	

CALCULAR


+

=