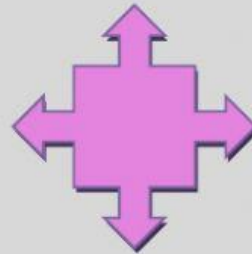
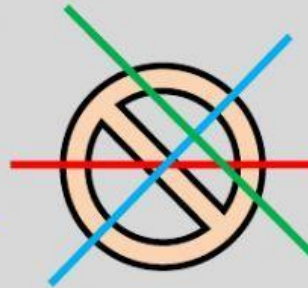
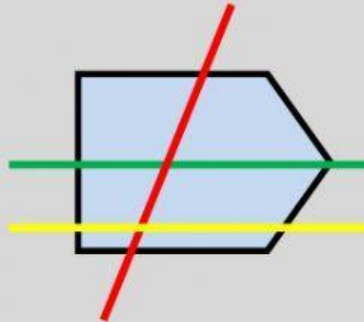
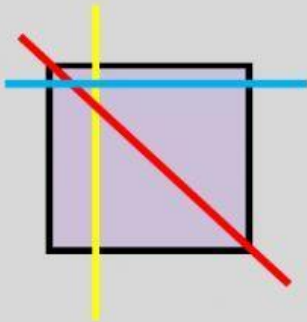




Observa las figuras. ¿Cuáles de ellas cumplen alguna simetría? Señálalas.



1. ¿De qué color es el eje de simetría en estas figuras?



2. Selecciona las casillas para completar la figura y que sea simétrica.

