




I.E.P CRISTIANO
"INTERNACIONAL ELIM"
¡Formando alumnos con futuro!

PONGO A PRUEBA MIS
CONOCIMIENTOS
¡YO SI PUEDO!




1.- Halla la suma de los ángulos internos del siguiente polígono regular:

- a) 1420
- b) 1410
- c) 1530
- d) 1440



2.- Halla la medida de los ángulos internos del siguiente polígono regular:

- a) 106
- b) 108
- c) 200
- d) 102




3.- Halla el número de diagonales del siguiente polígono regular:

a) 12

b) 13

c) 14

d) 15



4.- Encuentra el valor de "x" del siguiente polígono regular siendo la suma de los ángulos interno 780:

a) 50°

b) 60°

c) 70°

d) 85°

