

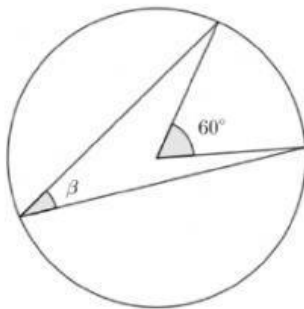
Ángulo inscrito y central



Indicación: resuelve los siguientes ángulos centrales e inscritos, indicado con el ángulo " β ", dando clic en la respuesta correcta. Puedes apoyarte del siguiente video.

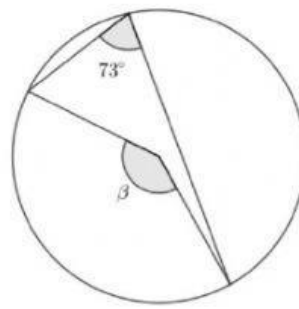


1) ¿Cuál es el valor del ángulo β ?



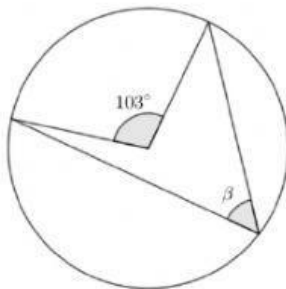
- | | |
|---------------|---------------|
| A) 15° | C) 30° |
| B) 20° | D) 35° |

3) ¿Cuál es el valor del ángulo β ?



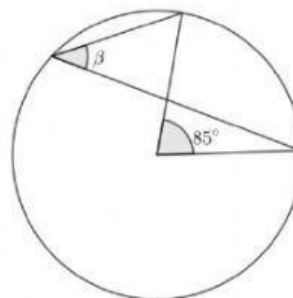
- | | |
|----------------|----------------|
| A) 103° | C) 176° |
| B) 146° | D) 126° |

2) ¿Cuál es el valor del ángulo β ?



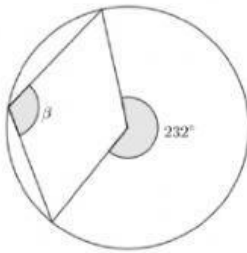
- | | |
|-----------------|-----------------|
| A) 53° | C) 50.5° |
| B) 52.5° | D) 51.5° |

4) ¿Cuál es el valor del ángulo β ?



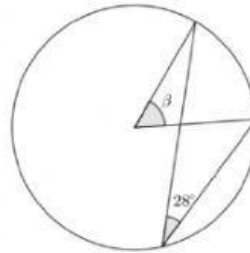
- | | |
|-----------------|-----------------|
| A) 75° | C) 52.5° |
| B) 42.5° | D) 32.5° |

5) ¿Cuál es el valor del ángulo β ?



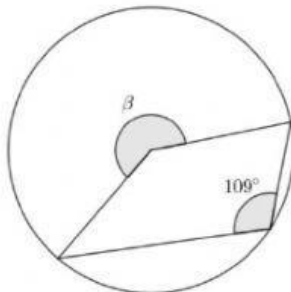
- | | |
|----------------|----------------|
| A) 116° | C) 117° |
| B) 115° | D) 114° |

8) ¿Cuál es el valor del ángulo β ?



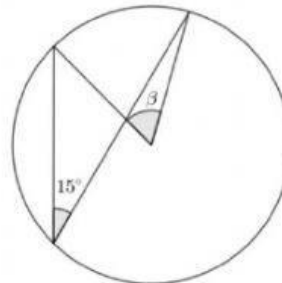
- | | |
|---------------|---------------|
| A) 48° | C) 46° |
| B) 58° | D) 56° |

6) ¿Cuál es el valor del ángulo β ?



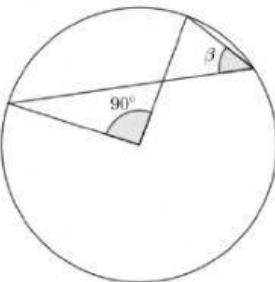
- | | |
|----------------|----------------|
| A) 218° | C) 238° |
| B) 228° | D) 209° |

9) ¿Cuál es el valor del ángulo β ?



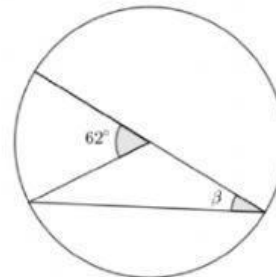
- | | |
|---------------|---------------|
| A) 15° | C) 30° |
| B) 20° | D) 35° |

7) ¿Cuál es el valor del ángulo β ?



- | | |
|---------------|---------------|
| A) 15° | C) 45° |
| B) 30° | D) 55° |

10) ¿Cuál es el valor del ángulo β ?



- | | |
|---------------|---------------|
| A) 31° | C) 32° |
| B) 30° | D) 33° |