

# GUÍA EVALUADA DE MATEMÁTICA

## UNIDAD 5 LECCIÓN 1 Y 2.

**OA:** Identificar la duración de actividades cotidianas.

Distinguir los momentos del día.

Identificar semanas, días y meses.

Comparar longitudes con medidas no estandarizadas.

➤ **Selecciona la alternativa correcta. (18 pts)**

**1. ¿Cuál es la cinta más corta?**



A) 1

B) 2

C) Son iguales.

**2. ¿Cuál niña o niño es más alto?**



A



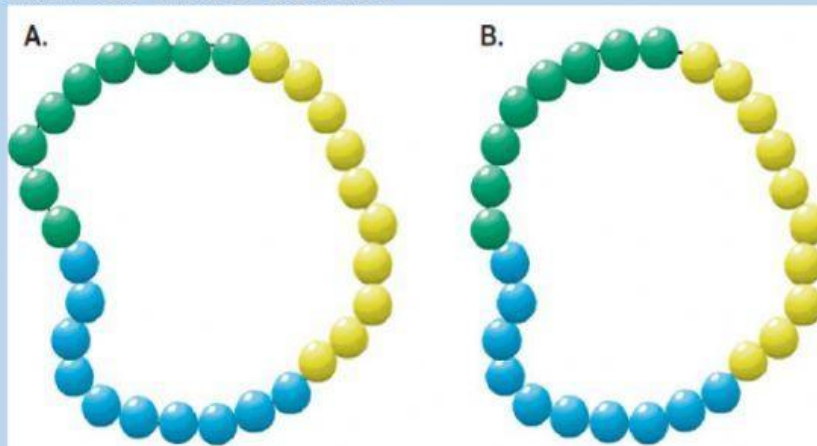
B



C



### 3. ¿Cuál collar es más corto?



**A**

**B**

**C- Son iguales.**

### 4. ¿Qué representa lo que está marcado?

Julio						
Lu	Ma	Mi	Ju	Vi	Sa	Do
	1	2	3	4	5	6
7	8	9	10	11	12	13
14	15	16	17	18	19	20
21	22	23	24	25	26	27
28	29	30	31			

**A. Días de la semana.**

**B. Mes del año.**

**C. Feriados.**

## 5. ¿Qué acción toma más tiempo?



A. Peinarse.

B. Comer.

C. Toman el mismo tiempo.

## 6. Si hoy es martes 13 de octubre ¿Qué día de la semana es 28 de octubre?



A) lunes

B) domingo

C) miércoles

**7.- En que momento del día ocurre la siguiente situación**



A) Mañana

B) Tarde

C) Noche

**8.- ¿A qué mes del año corresponde la imagen?**



A) marzo

B) septiembre

C) diciembre

**9.- ¿Cuál es el mes que sigue?**

FEBRERO 2021						
Lunes	Martes	Miércoles	Jueves	Viernes	Sábado	Domingo
1	2	3	4	5	6	7
8	9	10	11	12	13	14
15	16	17	18	19	20	21
22	23	24	25	26	27	28

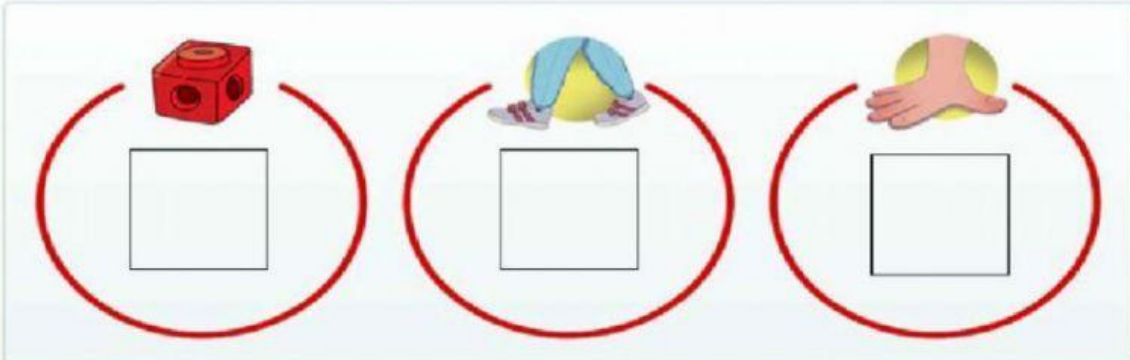
A) diciembre




B) marzo

C) enero



## 11. Selecciona la unidad de medida más adecuada para cada objeto. (6 pts)



## 12. Une según corresponda. (6 pts)

<div style="background-color: #fff9c4; padding: 5px; margin-bottom: 5px; border: 1px solid #ccc;">Tengo 12 meses.</div> <div style="background-color: #fff9c4; padding: 5px; margin-bottom: 5px; border: 1px solid #ccc;">Soy el primer día de la semana.</div> <div style="background-color: #fff9c4; padding: 5px; margin-bottom: 5px; border: 1px solid #ccc;">Tengo 7 días.</div> <div style="background-color: #fff9c4; padding: 5px; margin-bottom: 5px; border: 1px solid #ccc;">Soy el último mes del año</div> <div style="background-color: #fff9c4; padding: 5px; margin-bottom: 5px; border: 1px solid #ccc;">Soy el mes en que celebra el cumpleaños de Chile.</div> <div style="background-color: #fff9c4; padding: 5px; margin-bottom: 5px; border: 1px solid #ccc;">Soy el mes del año con menos días.</div>	<div style="background-color: #00b0f0; color: white; padding: 5px; margin-bottom: 5px; border: 1px solid #ccc;">Lunes</div> <div style="background-color: #b399db; color: white; padding: 5px; margin-bottom: 5px; border: 1px solid #ccc;">Semana</div> <div style="background-color: #8bc34a; color: white; padding: 5px; margin-bottom: 5px; border: 1px solid #ccc;">Año</div> <div style="background-color: #f06292; color: white; padding: 5px; margin-bottom: 5px; border: 1px solid #ccc;">Febrero</div> <div style="background-color: #00c080; color: white; padding: 5px; margin-bottom: 5px; border: 1px solid #ccc;">Diciembre</div> <div style="background-color: #ffeb3b; color: black; padding: 5px; margin-bottom: 5px; border: 1px solid #ccc;">Septiembre</div>
--	---

**13.- Los siguientes lápices fueron medidos con un clip. ¿Cuántos clips mide cada lápiz? (4 pts)**



Responde las siguientes preguntas:

- ¿Qué lápiz es el más corto?



- ¿Qué lápiz es el más largo?

