

TAREA 1: Lee las **UNIDADES** y las **DECENAS** que hay debajo de cada imagen y colócala en su lugar correspondiente en función del resultado.



3 D Y 7 U



5 D Y 0 6



1 D Y 9 U



0 D Y 9 U



7 D Y 7 U



10 U



2 D Y 3 U




4 D



6 D



65 U



4 D Y 4 U



1 D Y 3 U



3 D Y 1 U



30 U



7 D Y 1 U



8 D

| | | | |
|----|----|----|----|
| 37 | 19 | 56 | 71 |
| 23 | 60 | 80 | 31 |
| 40 | 30 | 44 | 77 |
| 09 | 13 | 10 | 65 |

TAREA 2: Números pares e impares.

EXPLICACIÓN: Escucha atentamente el vídeo. En él se explica cuáles son los números pares e impares. Es muy sencillo.

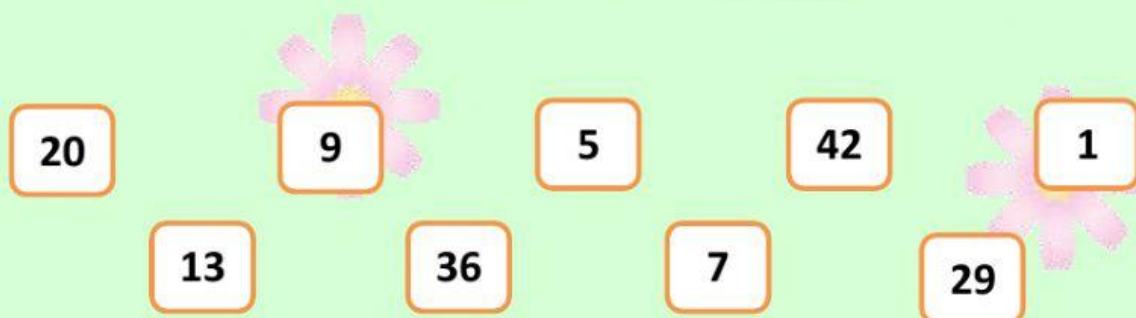


RECUERDA

Los números pares son los que terminan en 0, 2, 4, 6 y 8.

Los números impares son los que terminan en 1, 3, 5, 7 y 9.

TAREA 3: Lee los números y marca solo los que son impares.




TAREA 4: Lee los números y marca solo los que son pares.



Ejercicio: Suma los puntos de cada ficha de dominó y une mediante flechas.

1)




PAR

IMPAR




2)



PAR

IMPAR

3)

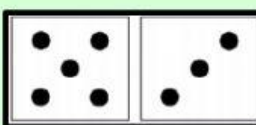


PAR

IMPAR

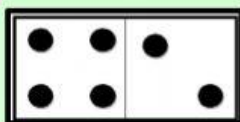


4)



PAR

IMPA



PAR

IMPA



Os dejo una canción muy divertida de los números pares e impares. Espero que os guste.

