
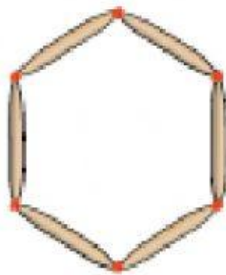
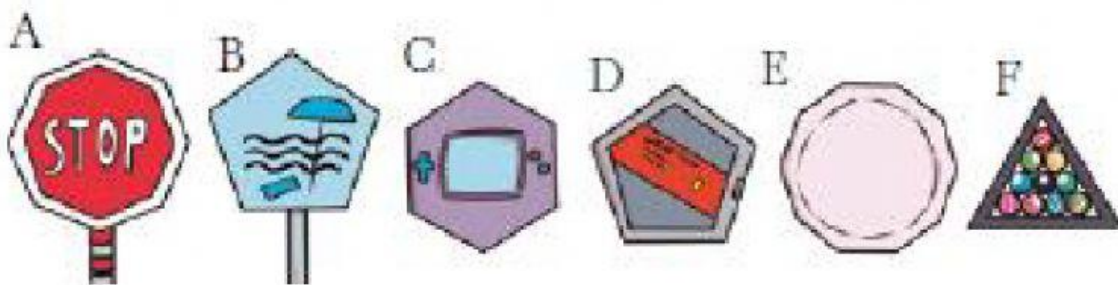


COMPLETA EL SIGUIENTE CUADRO



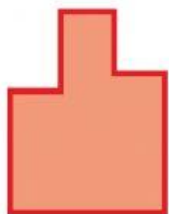
NOMBRE	LADOS	ÁNGULOS	VÉRTICES
Cuadrado.			

ESCRIBE EL NOMBRE DEL POLÍGONO QUE FORMA CADA FIGURA.



A	Octógono.
B	
C	
D	
E	
F	

CUÁLES SON CUADRILÁTEROS. ESCRIBE "SI" O "NO". RECUERDA QUE EN LA PÁGINA 11 SE EXPLICÓ ESTO.



A




B



C



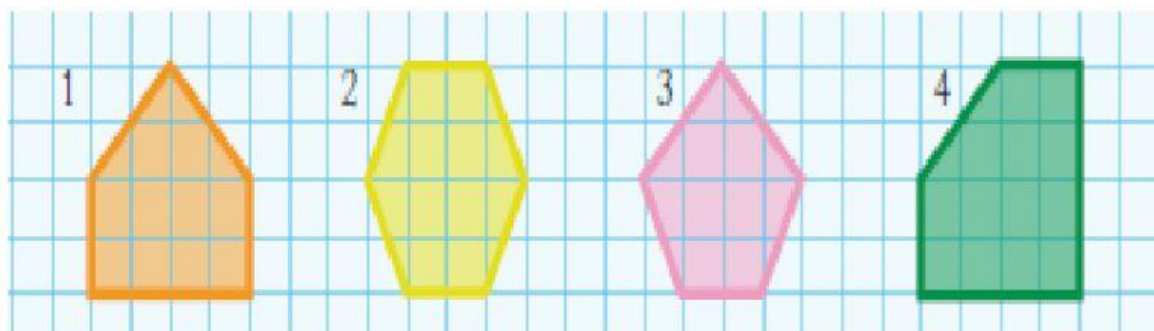
D



E

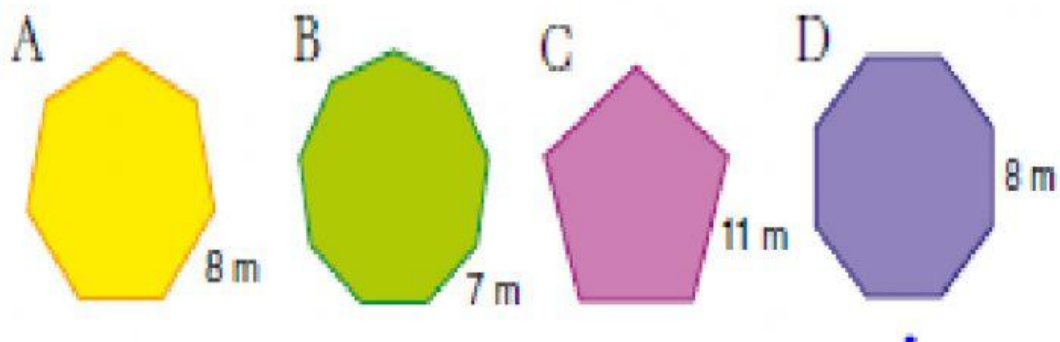
A	
B	
C	
D	
E	

CUÁLES SON PENTÁGONOS. ESCRIBE "SI" O "NO". RECUERDA QUE EN LA PÁGINA 11 ESTÁ EXPLICADO ESTO.



1	
2	
3	
4	

ESCRIBE EL NOMBRE DE CADA POLÍGONO Y AVERIGUA SU PERÍMETRO.



	NOMBRE	PERÍMETRO
A	Heptágono.	$P=8+8+8+8+8+8+8=56m$
B		
C		
D		