



## I.E. Gerardo Arias Copaja

Miss Lita. 1°A Miss Regina 1°B y Miss Ruth 1°C.

### Comparamos cantidades

#### Leemos y observamos

Adriana visitó el Bosque de Sho'llet, en Oxapampa, con su profesor y compañeros. Allí observaron hermosas orquídeas. ¿Cuántas orquídeas hay en total?



#### Hacemos

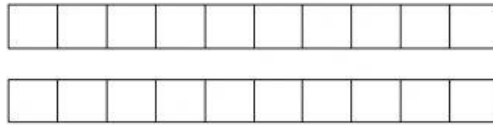
1 Comprendemos el problema.

a. Respondemos las preguntas.

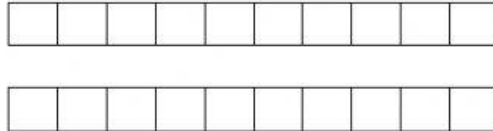
• ¿Cuántas  observaron las niñas y los niños?

• ¿Cuántas  observaron las niñas y los niños?

b. Representamos con material base diez la cantidad de orquídeas y completamos.




Hay  decena y  unidades.



. Hay  decena y  unidades

**c. Representamos con material base diez la cantidad de orquídeas.**



d. Coloreamos con una la respuesta.

• Hay más orquídeas de color...



• Hay menos orquídeas de color...



Observo las representaciones con el material BASE 10 , coloco los

signos  $<$   $>$   $=$

Y completo con los números en el TVP.

	<table border="1"> <tr> <td>D</td> <td>U</td> </tr> <tr> <td></td> <td></td> </tr> </table>	D	U			○		<table border="1"> <tr> <td>D</td> <td>U</td> </tr> <tr> <td></td> <td></td> </tr> </table>	D	U		
D	U											
D	U											
	<table border="1"> <tr> <td>D</td> <td>U</td> </tr> <tr> <td></td> <td></td> </tr> </table>	D	U			○		<table border="1"> <tr> <td>D</td> <td>U</td> </tr> <tr> <td></td> <td></td> </tr> </table>	D	U		
D	U											
D	U											
	<table border="1"> <tr> <td>D</td> <td>U</td> </tr> <tr> <td></td> <td></td> </tr> </table>	D	U			○		<table border="1"> <tr> <td>D</td> <td>U</td> </tr> <tr> <td></td> <td></td> </tr> </table>	D	U		
D	U											
D	U											