




UNIDAD EDUCATIVA "20 DE OCTUBRE 1"
EVALUACIÓN DEL 2DO TRIMESTRE
MATEMÁTICA



APELLIDOS Y NOMBRES:

FECHA: Martes 06 de septiembre del 2021

Nro. de lista
Inicial. Paterno.



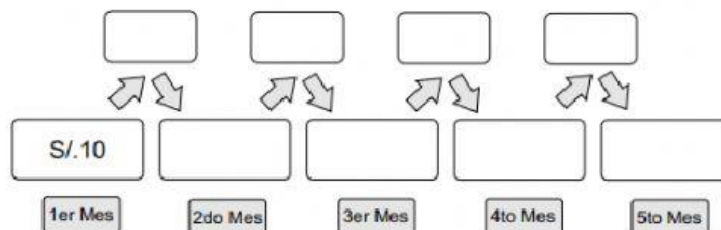
PUNTAJE/35

I. LEE Y RAZONA ANTES DE MARCAR TUS RESPUESTAS.

A. En la feria dominical Omar y Fanny vendieron en la mañana algunas frutas. Durante la tarde, vendieron 53 manzanas. Al finalizar el día se vendieron 120 frutas. ¿Cuántas frutas vendieron Omar y Fanny en la mañana?

- a) 53 frutas b) 67 frutas
c) 120 frutas d) 173 frutas

B. Valerio es un joven ahorrador. Cada mes ahorra el doble de lo que tiene el mes anterior. El primer mes ahorró Bs 10.



- a) Bs 160 b) Bs 80
c) Bs 40 d) Bs 20

C. Resuelve las siguientes sumas: (colorea las respuestas correctas)

1)
$$\begin{array}{r} 28739 \\ + 5789 \\ \hline 23 \end{array}$$

2)
$$\begin{array}{r} 907632 \\ + 532 \\ \hline 13 \end{array}$$

3)
$$\begin{array}{r} 121212 \\ + 78652 \\ \hline 9 \end{array}$$

1) a) 49094

b) 34450

c) 34451

2) a) 908177

b) 909431

c) 490948

3) a) 199873

b) 199800

c) 419973

D. Resuelve las siguientes restas:(colorea las respuestas correctas)

1)
$$\begin{array}{r} 28739 \\ - 5789 \\ \hline \end{array}$$

2)
$$\begin{array}{r} 692021 \\ - 57898 \\ \hline \end{array}$$

3)
$$\begin{array}{r} 224030 \\ - 89763 \\ \hline \end{array}$$

- 1) ☐ a)229050
☐ b)22950
☐ c)344510

- 2) ☐ a)268177
☐ b)634131
☐ c)634123

- 3) ☐ a)240000
☐ b)134267
☐ c)135297

E. Resuelve las siguientes multiplicaciones:(colorea las respuestas correctas)

1.
$$\begin{array}{r} 400 \\ \times 58 \\ \hline + \\ \hline \end{array}$$

2.
$$\begin{array}{r} 779 \\ \times 43 \\ \hline + \\ \hline \end{array}$$

3.
$$\begin{array}{r} 999 \\ \times 36 \\ \hline + \\ \hline \end{array}$$

4.
$$\begin{array}{r} 873 \\ \times 22 \\ \hline + \\ \hline \end{array}$$

5.
$$\begin{array}{r} 364 \\ \times 41 \\ \hline + \\ \hline \end{array}$$

1. ☐ 23400
☐ 232000
☐ 23200
☐ 239007

2. ☐ 39234
☐ 39497
☐ 39124
☐ 39567

3. ☐ 35964
☐ 56359
☐ 320094
☐ 15533

4. ☐ 1746
☐ 19206
☐ 1748
☐ 19207

5. ☐ 364
☐ 1456
☐ 14900
☐ 14924

II. UNE CON FLECHAS

A. Propiedades de la multiplicación.

- ☐ Propiedad conmutativa
- ☐ Propiedad distributiva
- ☐ Propiedad asociativa.
- ☐ Propiedad del elemento neutro

- ☐ $4 \times 1 = 4$
- ☐ $6 \times (12 + 30) = (6 \times 12) + (6 \times 30)$
- ☐ $123 \times 67 = 67 \times 123$
- ☐ $(12 \times 2) \times 5 = 12 \times (2 \times 5)$
- ☐ $0 \times 1168 = 0$




UNIDAD EDUCATIVA "20 DE OCTUBRE 1"
EVALUACIÓN DEL 2DO TRIMESTRE
MATEMÁTICA



APELLIDOS Y NOMBRES:

FECHA: Martes 06 de septiembre del 2021

Nro. de lista
Inicial. Paterno.



PUNTAJE/35

B. Clasificación de los triángulos

EQUILÁTERO	1 Ángulo obtuso
RECTÁNGULO	2 ángulos iguales
OBTUSÁNGULO	3 lados iguales
ISÓSCELES	1 ángulo recto
ACUTÁNGULO	3 lados desiguales
ESCALENO	3 ángulos agudo

C. clasificación de los cuadriláteros

Trapezio	Dos pares de lados paralelos, cuatro lados iguales y cuatro ángulos rectos.
Rombo	Dos pares de lados paralelos, cuatro lados iguales y ángulos no rectos, iguales dos a dos.
Rectángulo	No tiene lados paralelos. Lados desiguales.
Cuadrado	Dos pares de lados paralelos. Lados iguales dos a dos y 4 ángulos rectos.
Trapezoide	Un par de lados paralelos. Sus ángulos no son rectos.



III. RESUELVE LAS SIGUIENTES DIVISIONES Y ESCRIBE SI ES UNA DIVISIÓN EXACTA O INEXACTA

$24 \overline{) 2}$	$36 \overline{) 2}$	$49 \overline{) 3}$
$370 \overline{) 5}$	$474 \overline{) 7}$	$174 \overline{) 2}$
$852 \overline{) 4}$	$672 \overline{) 3}$	$812 \overline{) 6}$




UNIDAD EDUCATIVA "20 DE OCTUBRE 1"
EVALUACIÓN DEL 2DO TRIMESTRE
MATEMÁTICA



APELLIDOS Y NOMBRES:

FECHA: Martes 06 de septiembre del 2021

Nro. de lista
Inicial. Paterno.



PUNTAJE/35