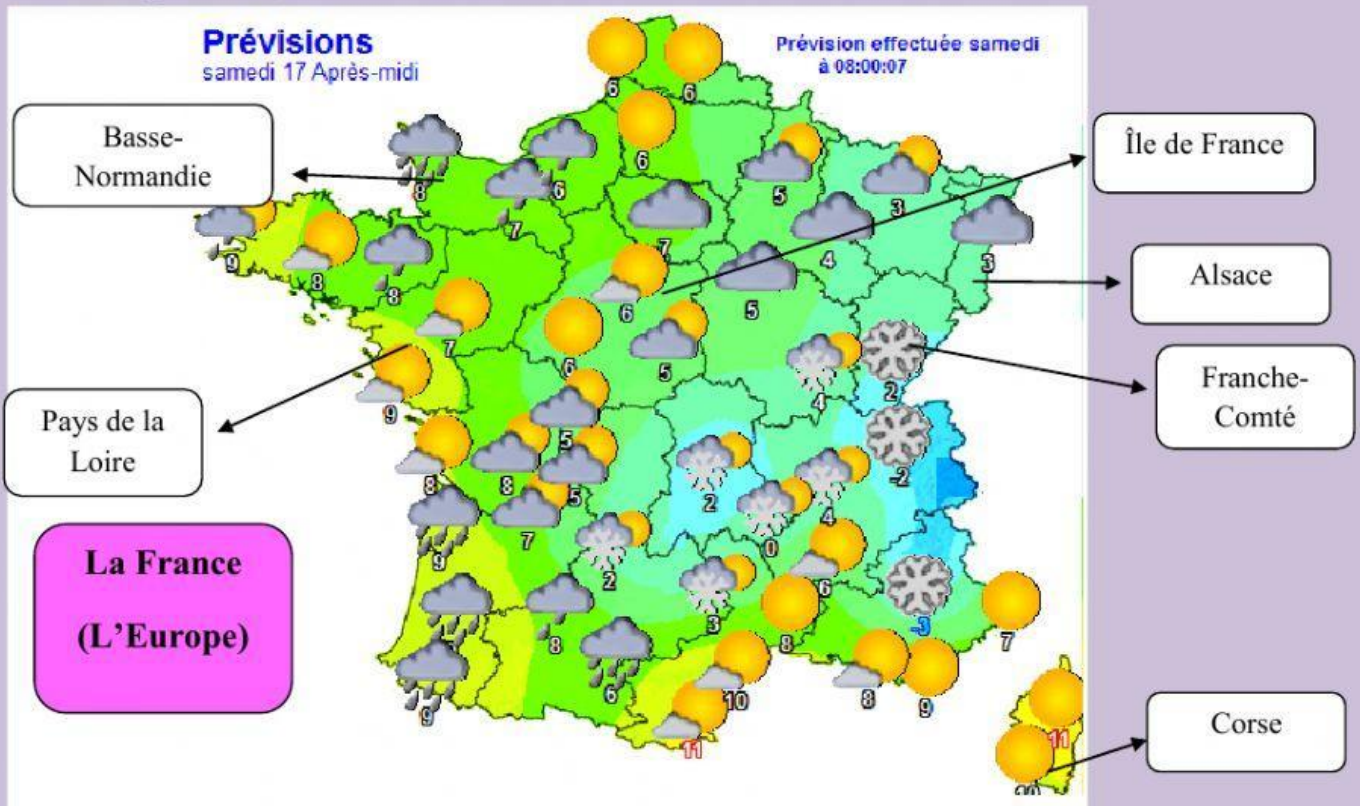




1. Regarde la carte de la France et réponds aux questions.

(Mira el mapa de Francia y responde a las preguntas). (Los números corresponden a la temperatura)



(Selecciona la respuesta correcta)

a) Quel temps fait-il à **Corse**?

- Il y a des nuages ☐ - Il fait beau ☐ - Il pleut ☐

b) Quel temps fait-il à la **Franche-Comté** ?

- Il fait neige ☐ - Il y a du vent ☐ - Il y a un orage ☐

c) Quel temps fait-il à l'**Alsace** ?

- Il y a des nuages ☐ - Il grêle ☐ - Il pleut ☐

d) Quel temps fait-il à l'**Île de France** ?

- Il y a un orage ☐ - Il fait beau et il y a des nuages ☐

e) Quels temps fait-il aux **Pays de la Loire** ?

- Il fait beau ☐ - Il y a des nuages et du soleil ☐ - Il pleut ☐

f) Quel temps fait-il à la **Basse-Normandie** ?

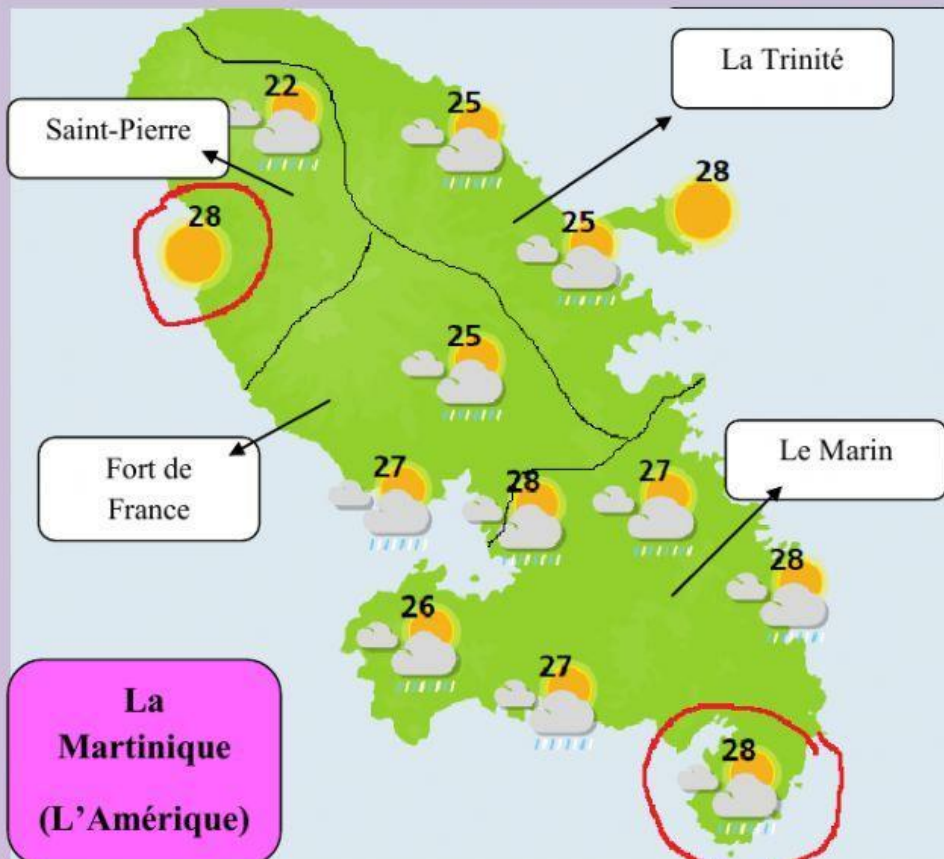
- Il pleut ☐ - Il grêle ☐ - Il neige ☐

2. Regarde la carte de la Martinique et réponds aux questions.

(Mira el mapa de La Martinica y responde a las preguntas. Los números son las temperaturas)

La Martinique est une île, c'est une région, qui appartient à la France. Elle se place dans la mer des Caraïbes. Elle a quatre districts.

(La Martinica es una isla, es una región, que pertenece a Francia. Se encuentra en el mar del Caribe. Tiene cuatro distritos.)



a) Quel temps fait-il à **Saint-Pierre**? (La parte señala en rojo)

- Il fait froid et il y a des nuages ☐
- Il fait chaud et beau. ☐
- Il fait chaud mais il y a des nuages. ☐

b) Quel temps fait-il au **Marin** ? (La parte señala en rojo)

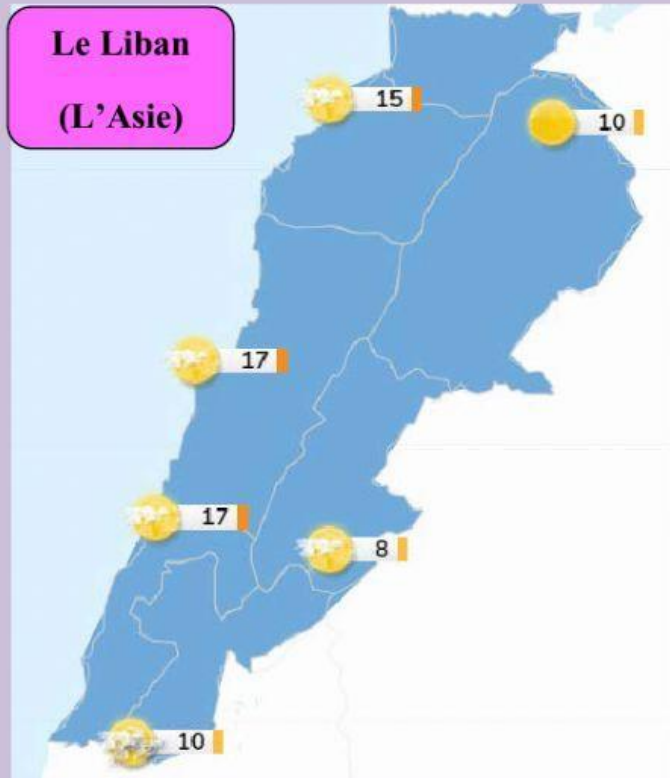
- Il fait froid et il y a des nuages. ☐
- Il fait froid et il pleut. ☐
- Il fait chaud et il pleut. ☐

3. Regarde la carte du Liban et réponds aux questions.

(Mira el mapa del Líbano y responde a las preguntas. Los números son las temperaturas)

Le Liban est un pays de L'Asie. Une partie se place dans la mer Méditerranée. Il y a beaucoup des montagnes. Sa capitale est Beirut.

(El Líbano es un país de Asia. Una parte se sitúa en el mar Mediterráneo. Hay muchas montañas. Su capital es Beirut)



Quel temps fait-il au **Liban** en général ?

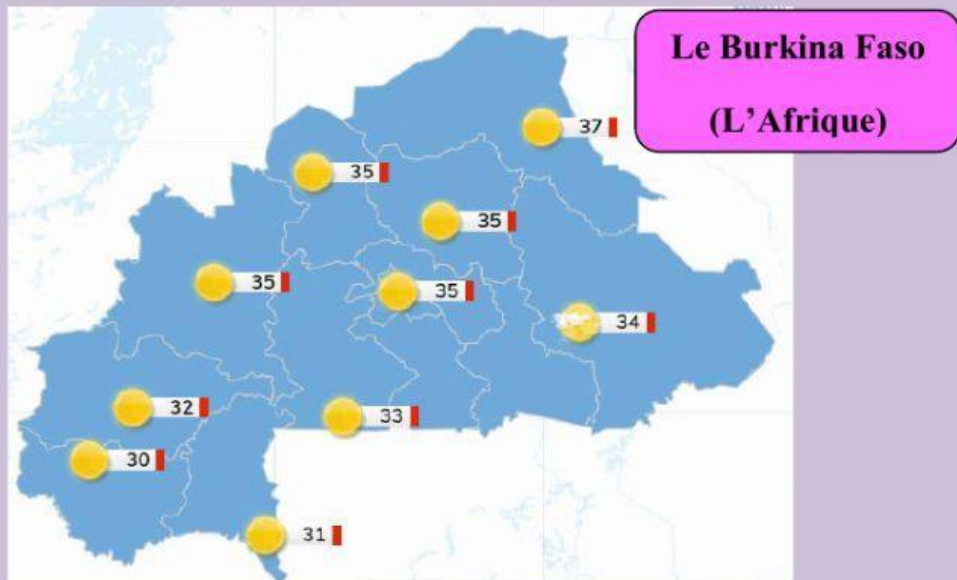
- Il pleut. ☐
- Il neige. ☐
- Il grêle. ☐
- Il fait très froid. ☐
- Il y a du soleil et des nuages. ☐

4. Regarde la carte du Burkina Faso et réponds aux questions.

(Mira el mapa de Burkina Faso y responde a las preguntas. Los números son las temperaturas)

Le Burkina Faso est un pays de l'Afrique de l'Ouest. Il n'a pas d'accès à la mer. Dans sa capitale, Uagadugú, on fait un important festival de cinéma.

(Burkina Faso es un país de África del oeste. No tiene acceso al mar. En su capital, Uagadugú, se celebra un importante festival de cine).



Quel temps fait-il au **Burkina Faso** en général ?

- Il fait très froid

- Il fait très chaud.

- Il pleut beaucoup.

5. Regarde la carte du Vanuatu et réponds aux questions.

(Mira el mapa de Vanuatu y responde a las preguntas. Los números son las temperaturas)

Le Vanuatu est un pays de L'Océanie. C'est une île de L'océan Pacifique. Ici, on parle français, c'est la langue officielle.

(Vanuatu es un país de Oceanía. Es una isla del océano Pacífico. Aquí, se habla francés, es la lengua oficial).



Quel temps fait-il?

- Il y a des nuages. Il fait froid.
- Il y a des nuages. Il fait chaud.
- Il y a un orage.