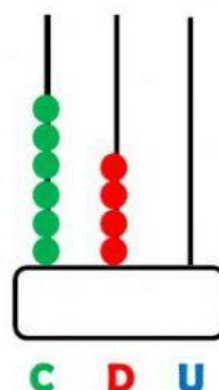
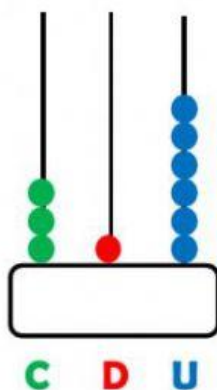
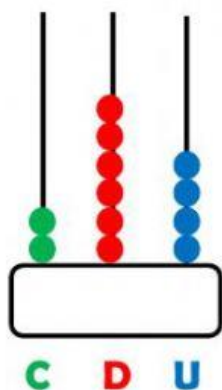




INSTRUMENTO DE EVALUACIÓN DE DIAGNOSTICO DE MATEMÁTICAS

Nombre: _____

1. Escribir que número se encuentre representado en el ábaco.




2. Escriba el número que corresponde a la escritura de las cantidades en el recuadro.

- ❖ Ciento veinte y cinco.
- ❖ Trecientos veinte y cuatro.
- ❖ Seiscientos setenta y cuatro.
- ❖ Quinientos ochenta y cinco.

3. Ubique los números del recuadro de mayor a menor en los vagones del tren

785	342	103	584
-----	-----	-----	-----





UNIDAD EDUCATIVA "26 DE FEBRERO"
AZUAY - PAUTE

4. Escriba la cantidad correspondiente en el recuadro.

C	D	U
3	5	5

C	D	U
3	5	3

C	D	U
5	3	5

$$500 + 30 + 5$$

$$300 + 50 + 5$$

$$300 + 50 + 3$$

5. Resuelva las siguientes operaciones

$$\begin{array}{r} 754 \\ - 296 \\ \hline \end{array}$$

$$\begin{array}{r} + 115 \\ 789 \\ \hline \end{array}$$

Marcar la respuesta correcta.

6×3	<div>23</div> <div>24</div> <div>18</div>	7×7	<div>56</div> <div>49</div> <div>54</div>
3×9	<div>32</div> <div>27</div> <div>30</div>	6×11	<div>17</div> <div>60</div> <div>66</div>
3×3	<div>6</div> <div>9</div> <div>12</div>	9×12	<div>108</div> <div>109</div> <div>112</div>

DOCENTE: Lcda. Marcia Barba. Lcdo. Carlos Sacta. Lcda. Janeth Chapa

Firma:

Fecha: 02 de septiembre del 2021.

COORDINADOR DE ÁREA: Mgs. Freddy Duchimasa

Firma:

Fecha:

VICERRECTORA:

Mgs. Carmen Yunga

Firma:

Fecha: 03-09-2021