

Ticket de Salida Matemáticas Septiembre

Tomo 2 Sumo Primero 2° Básico: fecha entrega Jueves 30 de Septiembre.

Escribe los resultados.

+	6	7	8
6			
7			
8			

2° Básico
OA 6

Ticket de salida página:

23

Tomo 2

El total de plátanos se representa:



platos.

plátanos en cada plato.

plátanos.

El total de huevos se representa:



bandejas.

huevos en cada bandeja.

huevos en total.

2° Básico
OA 11

Ticket de salida página:

24

Tomo 2

2° Básico
OA 11

Ticket de salida página:

25

Tomo 2

El total de galletas se representa:



platos.

galletas en cada plato.

galletas en total.

2° Básico
OA 11

Ticket de salida página:

26

Tomo 2

¿Cuántos dulces hay? Completa.



$$\boxed{} \cdot \boxed{} = \boxed{}$$

↓
Cantidad
de bolsas

↓
Cantidad de
dulces en
cada bolsa

↓
Total de
dulces

2° Básico
OA 11

Ticket de salida página:

27

Tomo 2

Escribe la frase numérica
de multiplicación.



$$\boxed{} \cdot \boxed{} = \boxed{}$$

↓
Cantidad
de bolsas

↓
Cantidad de
naranjas por
envase

↓
Total de
naranjas

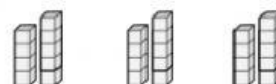
2° Básico
OA 11

Ticket de salida página:

28

Tomo 2

¿Cuántos hay?
Escribe la frase numérica.



$$\boxed{} \cdot \boxed{} = \boxed{}$$

2° Básico
OA 11

Ticket de salida página:

30

Tomo 2

Coloca las 16 marraquetas en
bolsas con la misma cantidad.
Escribe 2 frases numéricas.



$$\square \cdot \square = \square$$

$$\square \cdot \square = \square$$

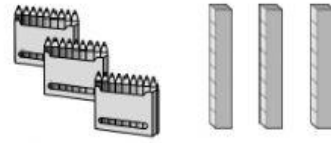
2° Básico
OA 11

Ticket de salida página:

31

Tomo 2

Hay la misma cantidad de lápices
en cada caja.



Escribe la frase numérica.

$$\square \cdot \square = \square$$

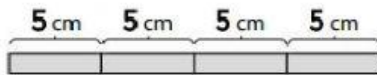
2° Básico
OA 11

Ticket de salida página:

32

Tomo 2

¿Cuántos cm mide
la cinta en total?



$$\square \cdot \square = \square$$

↓ ↓ ↓

Trozos de Cantidad de Total

cinta cm de cada

 cinta

2° Básico
OA 11

Ticket de salida página:

33

Tomo 2

Rosa escribió $7 \cdot 3$.
Encierra los grupos.



2° Básico
OA 11

Ticket de salida página:

34

Tomo 2

Profesora Jefe: María Cecilia Estay M.