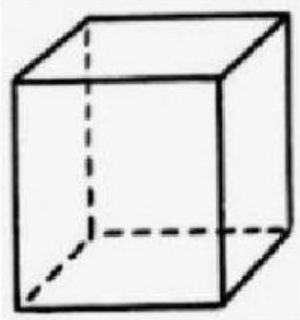



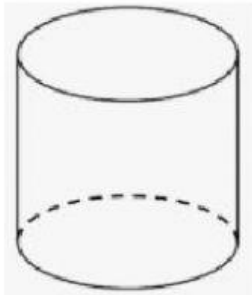
LEMBAR KERJA PESERTA DIDIK  
KOMPETENSI DASAR (KD) 4.6

- Pilih jawaban yang tepat ya, klik kotaknya!


1.



2.

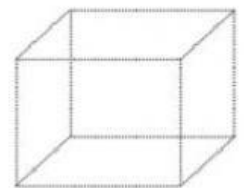
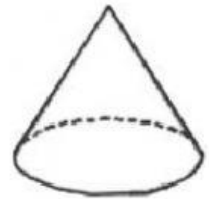


- Pasangkan dengan tepat!



Benda yang berbentuk tabung

Benda yang berbentuk bola



- Urutkan bangun ruang di bawah ini dari yang terkecil dengan menuliskan hurufnya!

