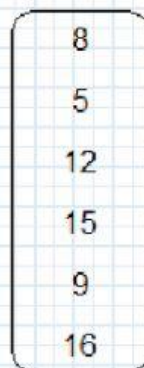
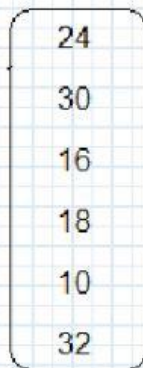


# EVALUACIÓN SEMANAL DE MATEMÁTICA



NOMBRE Y APELLIDO: \_\_\_\_\_

## 1. TRAZA LAS FLECHAS QUE FALTAN

ES LA MITAD DE:



ES LA TERCIA DE:



## 2. MARCA LA RESPUESTA CORRECTA EN CADA PREGUNTA.

¿CUÁNTO ES LA CUARTA PARTE DE 36 MULTIPLICADO POR 6?

A) 56

B) 32

C) 54

D) 9

¿CUÁNTO ES LA TERCERA PARTE DE 15 DISMINUIDO EN 5?



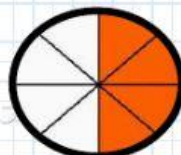

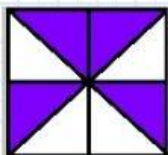
A) 10

B) CERO

C) 8

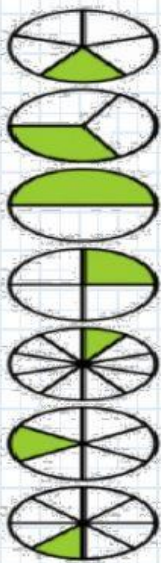
D) 6

¿CUÁLES DE ESTAS FRACCIONES SON CUATRO OCTAVOS?





**3. UNE CON LÍNEAS LAS FRACCIONES Y ESCRIBE COMO SE LEE.**



$\frac{1}{2}$

$\frac{1}{3}$

$\frac{1}{4}$

$\frac{1}{5}$

$\frac{1}{6}$

$\frac{1}{8}$

$\frac{1}{10}$

**4. ESCRIBE TRES EJEMPLOS DE FRACCIONES HOMOGÉNEAS**

\_\_\_\_\_, \_\_\_\_\_, \_\_\_\_\_.

\_\_\_\_\_, \_\_\_\_\_, \_\_\_\_\_.

**5. ESCRIBE TRES EJEMPLOS DE FRACCIONES HETEROGÉNEAS.**

\_\_\_\_\_, \_\_\_\_\_, \_\_\_\_\_.

\_\_\_\_\_, \_\_\_\_\_, \_\_\_\_\_.