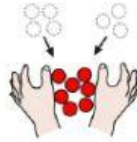
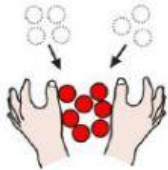



“APRENDEMOS EN CASA”

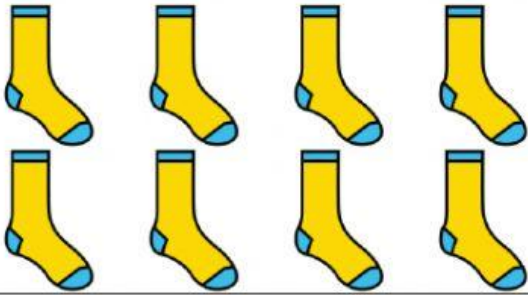
SUMA



$$\begin{array}{r} +8 \\ \underline{+2} \end{array}$$

<p>6 CALCETINES</p>	<p>+</p>	<p>6 CALCETINES</p>
<p>JÚNTALOS (arrastra hasta aquí)</p> 		
<p>ESCRIBE LA SUMA</p> 		

8 CALCETINES

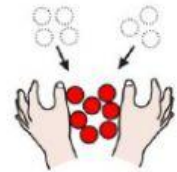


+

2 CALCETINES



JÚNTALOS (arrastra hasta aquí)



ESCRIBE LA SUMA

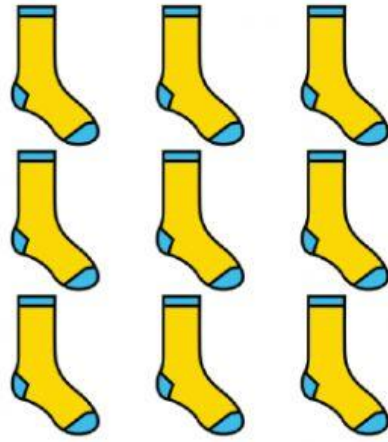


5 CALCETINES

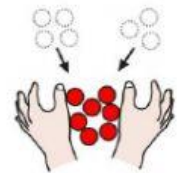


+

9 CALCETINES



JÚNTALOS (arrastra hasta aquí)



ESCRIBE LA SUMA



PROBLEMA 1

TENGO QUE AYUDAR A DOBLAR LOS CALCETINES EN CASA

EN UN MONTÓN TENGO 5 CALCETINES (PON 5 CALCETINES)



EN OTRO MONTÓN TENGO 7 CALCETINES

(PON 7 CALCETINES)



SI JUNTO LOS DOS MONTONES (JÚNTALOS)



¿CUÁNTOS CALCETINES TENGO EN TOTAL? CUENTA Y RESPONDE



PROBLEMA 2

TENGO QUE AYUDAR A DOBLAR LOS CALCETINES EN CASA

EN UN MONTÓN TENGO 6 CALCETINES (PON 6 CALCETINES)




EN OTRO MONTÓN TENGO 8 CALCETINES

(PON 8 CALCETINES)



SI JUNTO LOS DOS MONTONES (JÚNTALOS)



¿CUÁNTOS CALCETINES TENGO EN TOTAL? CUENTA Y RESPONDE

