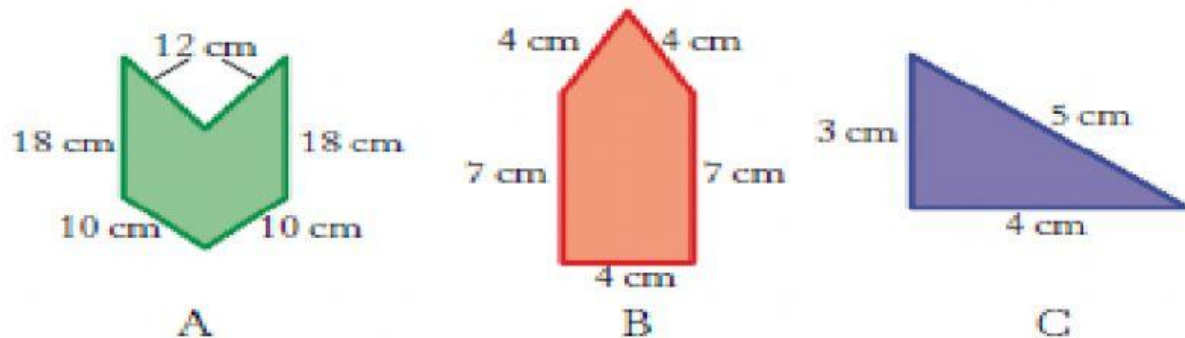


OBSERVA EL SIGUIENTE PLANO DE UNA CALLE. CÓMO SON LOS ÁNGULOS QUE FORMAN LAS CALLES. NO OLVIDES PONER LA SUMA.

¿Cuál es el perímetro de estos polígonos?:




A	B	C
P=	P=	P=

CALCULA EL PERÍMETRO DE LOS SIGUIENTES POLÍGONOS. NO OLVIDES PONER P= Y LA SUMA DE LOS LADOS.

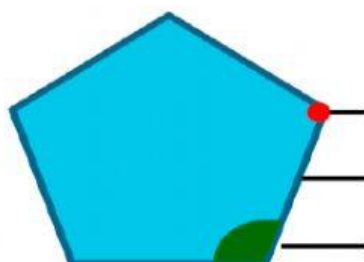
Triángulo, cada lado mide 5m.



Cuadrado, cada lado mide 10 cm.



Pentágono, cada lado mide 20 m.



ELIGE LA RESPUESTA CORRECTA. SOLAMENTE DEBERÁS DE PONER SU RESPUESTA NO PONGAS LA SUMA.

Si cada lado mide 5m. ¿Cuánto mide el perímetro de cada polígono?

