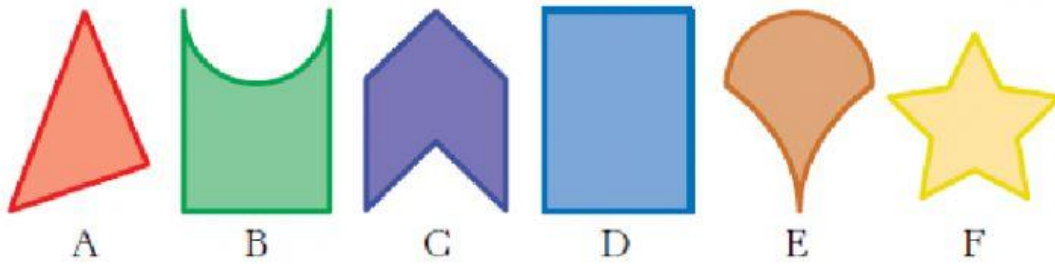


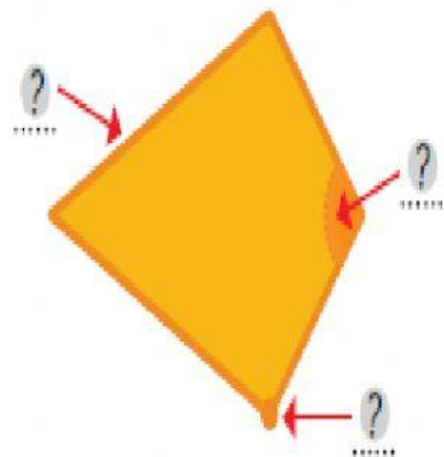
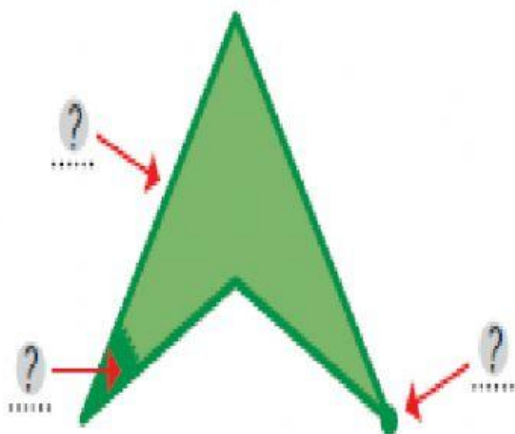
IDENTIFICA CUÁLES SON LOS POLÍGONOS.

HAZ LAS SIGUIENTES ACTIVIDADES. SÓLO TIENES QUE ESCRIBIR "SI" O "NO" (EN MAYÚSCULA), AL LADO DE LA LETRA.


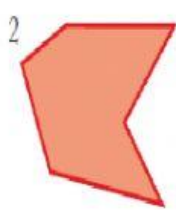
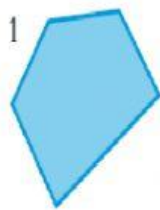


A	
B	
C	
D	
E	
F	


ESCRIBE LOS ELEMENTOS DE LOS SIGUIENTES POLÍGONOS.



COMPLETA LA TABLA. FÍJATE EN EL EJEMPLO.



4



5

POLÍGONO	LADOS	VÉRTICES	ÁNGULOS
1-Pentágono	5	5	5
2- Pentágono			
3- Heptágono			
4- Triángulo			
5- Cuadrado			