



UNIDAD EDUCATIVA DR. MANUEL BENJAMÍN CARRIÓN MORA

HONOR Y LEALTAD PARA LA LIBERTAD

ADOLFO KLINGER 12-341 Y JORGE GARCÉS TELFS. 2475688...691 AMIE 17H01083

EVALUACIÓN DIAGNOSTICA

ÁREA: MATEMÁTICA

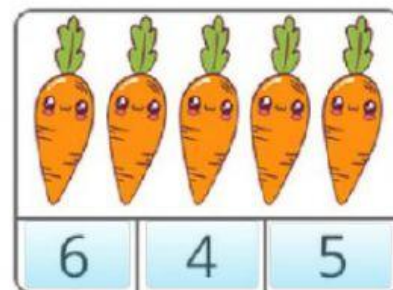
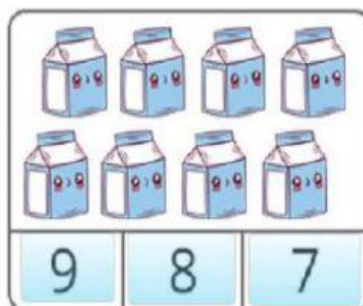
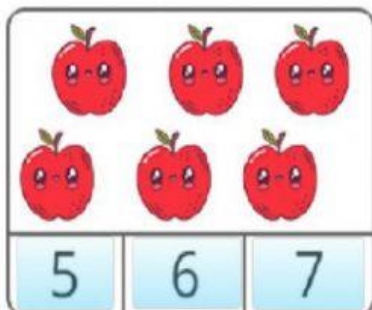
AÑO LECTIVO 2021/ 2022

NOMBRE:

FECHA: 3º AÑO DE EGB: PARALELO: “___”

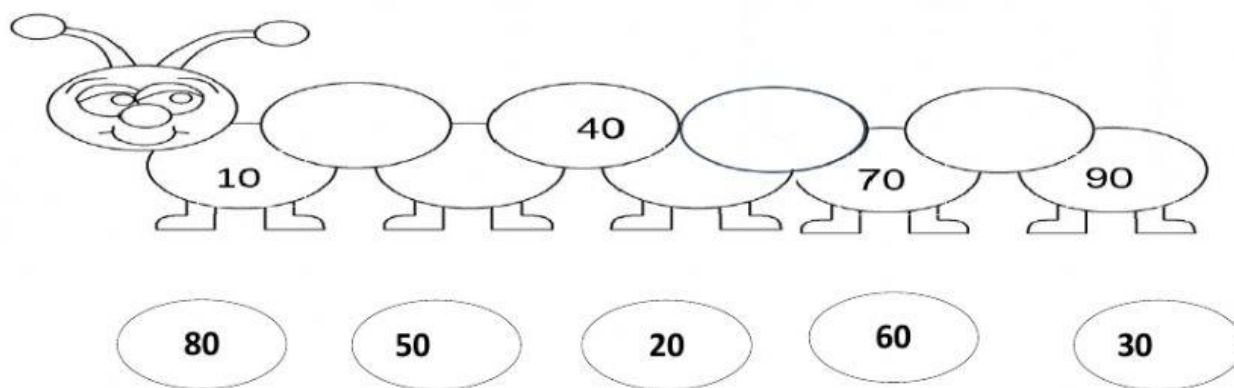
D.C.D.: M.2.1.1.4 Identificar conjuntos según el número de elementos.

1.- **ESCOJA** el número correcto de cada conjunto.



D.C.D.: M.2.1.1.4 Agrupar objetos en decenas y unidades con material concreto.

2.- **COMPLETE** dentro del gráfico las decenas puras que faltan.



D.C.D.: M.2.1.1.4. Establecer relación de secuencia y de orden en un conjunto de números naturales.

3.- **ESCRIBA** el número anterior, entre y el posterior según corresponda.

ANTERIOR

ENTRE

POSTERIOR

	56
--	----

74		76
----	--	----

23	
----	--

D.C.D: M.2.1.15. Establecer relación de secuencia y orden de números naturales utilizando material concreto y simbología matemática (> < =)

4.- **PONGA** el signo mayor, menor o igual según corresponda.

>

MAYOR

<

MENOR

=

IGUAL

40 _____ 60

18 _____ 13

98 _____ 12

35 _____ 35

27 _____ 58

D.C. D: M.2.1. Identificar los días, meses, años en la vida cotidiana.

5.- **ESCRIBA** (V) si es verdadero y (F) si es falso.

- El año tiene 12 meses. ()
- Una semana tiene 3 días. ()
- Un día tiene 24 horas ()


D.C.D: M.1.21.2. Identificar las características que distinguen a las figuras geométricas rectangulares y triangulares.

6.- **Una** con líneas cada figura geométrica con su respectivo nombre.

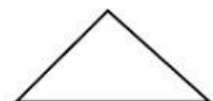
Círculo



Triángulo



Cuadrado



D.C.D: **M.1.21.2.** Realizar adiciones y sustracciones con los números hasta 9 999, con material concreto, mentalmente, gráficamente y de manera numérica.

7.- **RESUELVA** las siguientes sumas.

$\begin{array}{r} 35 \\ + 63 \\ \hline \square \square \end{array}$	$\begin{array}{r} 48 \\ + 31 \\ \hline \square \square \end{array}$	$\begin{array}{r} 55 \\ + 23 \\ \hline \square \square \end{array}$
---	---	---

8.- **RESUELVA** las siguientes restas y **UNA** con la respuesta correcta.

-	D	U
	8	4
	3	4

12

-	D	U
	9	6
	5	3




50

-	D	U
	7	8
	6	6

43

D.C. D: **M.2.1.15.** Identificar cantidades mayores, menores e iguales.

9.- **TACHE** el número mayor que está dentro de cada nube.



D.C.D.: **M.2.1.24.** Resolver problemas que requieran el uso de adiciones y sustracciones sin reagrupación con los números de hasta dos cifras mentalmente, gráficamente y de manera numérica.

10.- RESUELVA el siguiente problema:

- Mateo tenía 67 lápices y le regala 20 lápices a su primo David. ¿Cuántos lápices le quedarán?

Datos	Razonamiento	Operación
<div> <div></div> <div></div> </div>	Para saber cuántos lápices le quedarán debemos hacer una <div></div>	<div> <div>D</div> <div>U</div> <div></div> <div></div> <div></div> <div></div> <div></div> <div></div> </div>

Firma		
Elaborado por: Ing. Fernanda Coello Lic. Soraya Álvarez Lic. Daysi Benavides Lic. Mirian Tabango Lic. Mónica Egas Lic. Maribel Arévalo	Coordinador@: Lic. Mirian Tabango	F.....
Certificado por:	Vicerrector (e) MSc. Yina Zambrano	F.....
Padre de Familia:		F.....