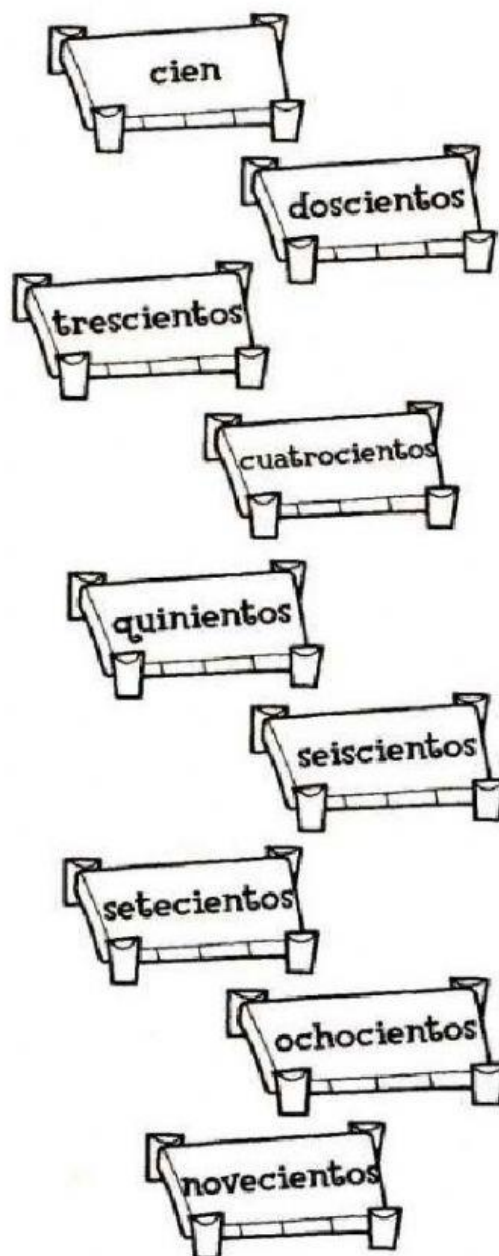





Nombre: _____


Fecha: _____


1. Relaciona cada barco con el puerto correspondiente. Une con una línea.

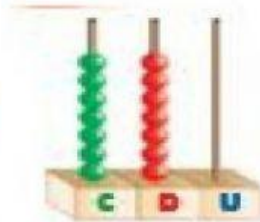


2. Observa la gráfica y escribe el número que forma:









3. Resuelve las siguientes operaciones:

SUMAS Y RESTAS

$$\begin{array}{r} + 367 \\ 476 \\ \hline \end{array}$$

$$\begin{array}{r} + 797 \\ 239 \\ \hline \end{array}$$

$$\begin{array}{r} + 187 \\ 423 \\ \hline \end{array}$$

$$\begin{array}{r} - 662 \\ 289 \\ \hline \end{array}$$

$$\begin{array}{r} - 302 \\ 244 \\ \hline \end{array}$$

$$\begin{array}{r} - 403 \\ 178 \\ \hline \end{array}$$

