

1. Omple les caselles amb la suma dels 2 nombres que hi ha a sobre.

Si ho necessites, enregistra les operacions. Si les fas mentalment, enregistra la que més t'hagi costat calcular.

8	7	14	13

21	6	9	17

2. Completa les Capsetes Additives.

100	
56	

100	
88	

100	
	27

100	
	65

100	
25	

100	
95	

100	
50	

100	
70	


75	
5	

92	
80	


26	
0	

73	
29	

1. Indica quin nombre està representat i fes-ne el doble.



El doble de ____ és ____.



El doble de ____ és ____.




El doble de ____ és ____.




El doble de ____ és ____.


2. Indica quin nombre està representat i guixa'n la meitat.




La meitat de ____ és ____.



La meitat de ____ és ____.



La meitat de ____ és ____.



La meitat de ____ és ____.