



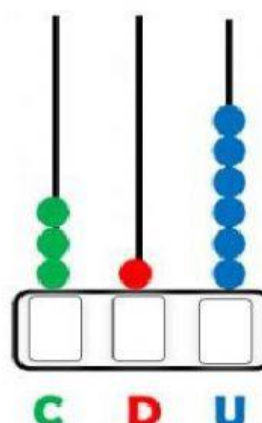
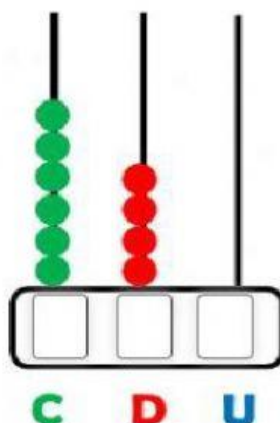
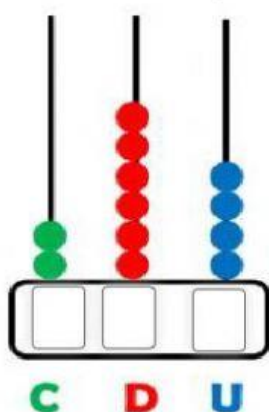
PRUEBA DE DIAGNOSTICO DE MATEMATICAS

ESTUDIANTE: _____

FECHA: _____

GRADO: 4TO AÑO DE EGB _____

1. Escribe el número que hay representado en cada ábaco.



2. Una según corresponda.

a. 800:

ciento quince

b. 792

ochocientos

c. 115:

Setecientos noventa y dos

3. Ubique los símbolos mayores que, menor que, o igual, ($>$, $<$, $=$) según corresponda.

583



731

980



980

894



476

4. Observe y conteste la siguiente pregunta.

Andrea, Luis, Pablo y Rosalba fueron a la papelería a comprar sus útiles escolares.

Andrea



\$ 181

Luis



\$ 239

Pablo



\$ 179

Rosalba



\$ 253

¿Quién gastó más en útiles escolares?

¿Quién gastó menos?

5. Resuelve el siguiente problema.

Elena en su cumpleaños recibe 435 dólares de parte de sus invitados, sus tíos le regalan 250 dólares más ¿Cuántos dólares tiene Elena? Representa y resuelve la suma

| C | D | U |
|---|---|---|
| | | |
| | | |
| | | |

Respuesta: _____ dólares

6. Resuelva la siguiente operación.

$$\begin{array}{r} 873 \\ - 596 \\ \hline \end{array}$$

7. Una con líneas la suma con su respectiva multiplicación.

2 + 2 + 2 + 2 + 2 + 2

3 x 3

3 + 3 + 3

9 x 3

9 + 9 + 9

6 x 2

8. Realice la composición de los siguientes valores y los ubico en la tabla posicional.

| Descomposición | Composición |
|----------------|-------------|
| 500+80+5 | |
| 800+70+6 | |
| 200+20+3 | |
| 900+40+2 | |

| C | D | U |
|---|---|---|
| | | |
| | | |
| | | |
| | | |

9. Complete con lo correcto (reloj - balanza - metro - litro)

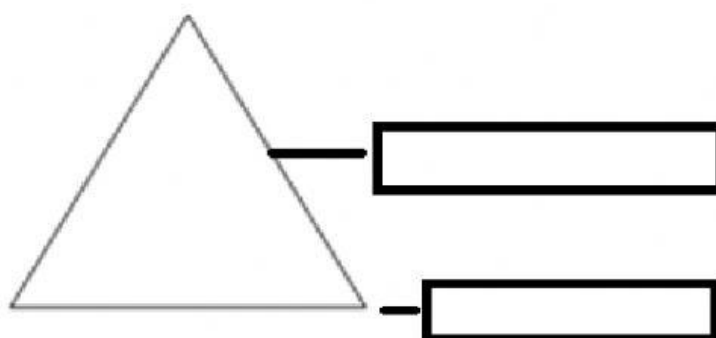
Con el _____ mido la leche

Con la _____ mido el peso de las manzanas

Con el _____ mido la cancha

Con el _____ mido el tiempo

10. Indique los elementos de un triángulo: lado - ángulo



GRACIAS