

Relación entre el radio y el diámetro

Recuerda que:

El radio es la mitad del diámetro

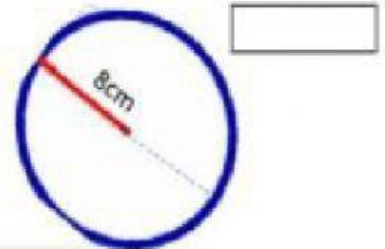
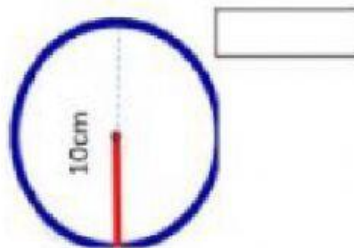
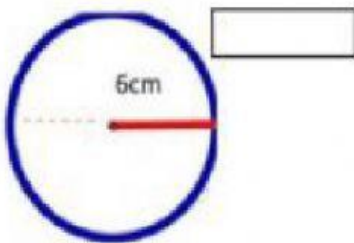
$$r = \frac{1}{2}D$$

El diámetro es el doble del radio

$$D = 2r$$

Escribe la medida correcta del diámetro o del radio según el dato que tengas

- 1) Escribe la medida del diámetro de las siguientes circunferencias:



- 2) Escribe la medida del radio de las siguientes circunferencias:

