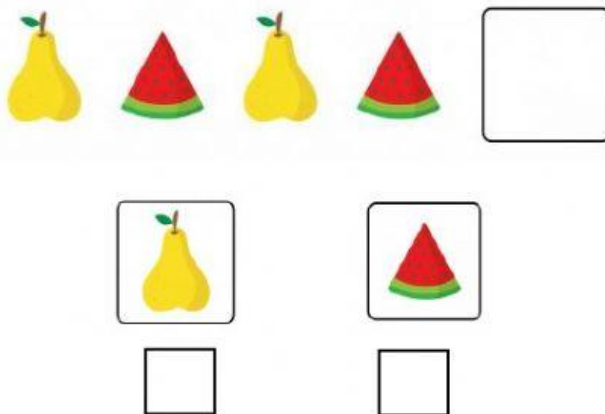




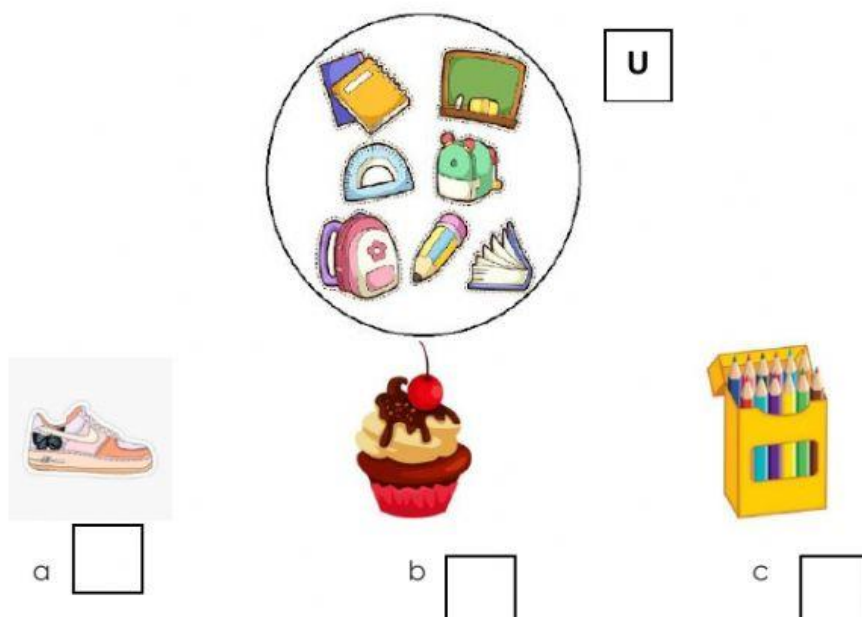
EVALUACIÓN DIAGNÓSTICA TERCEROS AÑOS
MATEMÁTICA

La presente evaluación no representa una nota para algún parcial, es un documento que sirve de utilidad al docente para encontrar el punto de partida de los conocimientos que ha adquirido el estudiante, durante el segundo año de básica, recuerde responder de manera honesta.

1. Observando la siguiente imagen escoge la opción que continua la serie

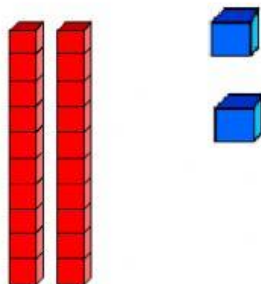


2. ¿Qué elemento pertenece al conjunto universo?





3. Elija la cantidad representada en la imagen y pinte el cuadrado de la respuesta correcta.



a) 22 ☐

b) 42 ☐

c) 12 ☐

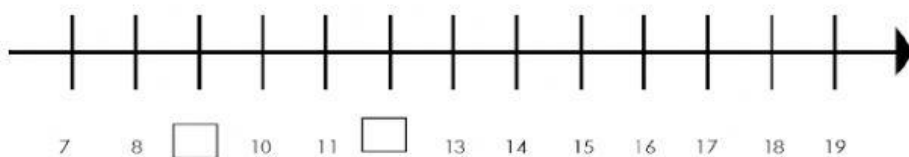
4. ¿Qué número representa la siguiente cantidad?
7 decenas y 6 unidades

a) 67 ☐

b) 17 ☐

c) 76 ☐

5. ¿Qué números completan la serie? Encierra la respuesta correcta.



- a) 3, 11
b) 9, 12
c) 6, 14



6. Resuelva la siguiente suma o adición y encierre la respuesta correcta

- a) 76
- b) 54
- c) 64

	D	U
	2	3
+	4	1

7. Resuelva la siguiente sustracción o resta y encierre la respuesta correcta

- a) 11
- b) 32
- c) 54

	D	U
	7	5
-	4	3

8. La semana cuántos días tiene? Encierra la respuesta correcta.

- a) 6
- b) 7
- c) 8

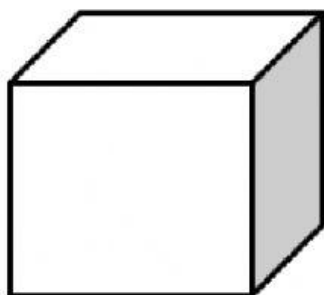
9. Resuelva el siguiente problema

María ahorro \$10 dólares y su papá le regalo \$5. ¿Cuánto dinero tiene María?

- a) \$15
- b) \$12
- c) \$20



10. ¿Cuál de los siguientes objetos rueda? Seleccione el correcto



a

☐

b

☐

Total 10 puntos.