



Evidencia: Captura de celular o envío directo al correo
angieap1@hotmail.com

Viernes



❖ Une con una línea el producto que se obtiene de cada animal





Matemáticas

Diagnostico







Evidencia: Captura de celular o envío directo al correo
angieap1@hotmail.com



En el acuario de Don Luis hay peceras con peces. Cuenta la cantidad de peces de cada pecera.

- ❖ Coloca con una (X) la bolsa que tiene menos fruta (dé tiempo).
- ❖ Coloca con una palomita (✓) a la bolsa que tiene más fruta".



X

✓



Matemáticas

Diagnostico

Evidencia: Captura de celular o envío directo al correo
angieap1@hotmail.com



Coloca lo que se indica lo que se te pide.



8 pollitos a su mamá gallina.

