

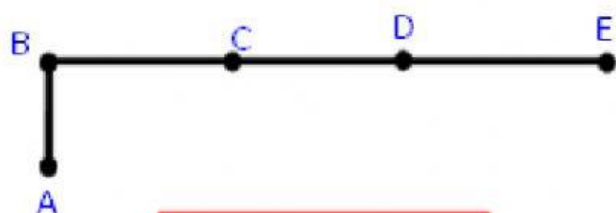


Conteo de segmentos

🐼 Observa los ejercicios, analiza la cantidad de SEGMENTOS (resuelve en tu cuaderno u hoja de apoyo) y selecciona la respuesta correcta:



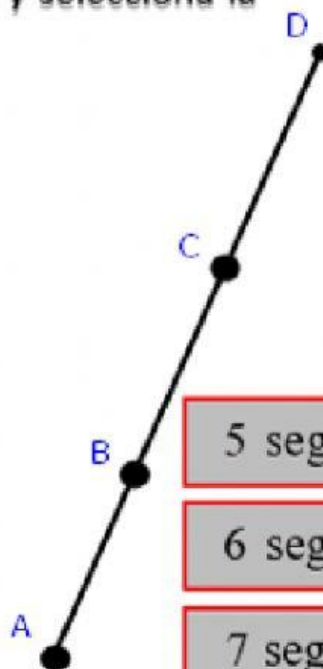
GEOMETRÍA



5 segmentos

6 segmentos

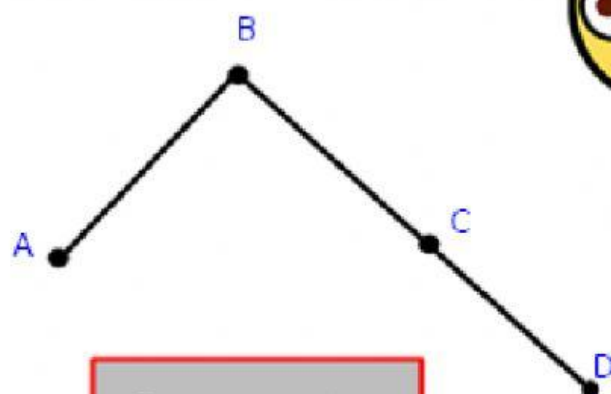
7 segmentos



5 segmentos

6 segmentos

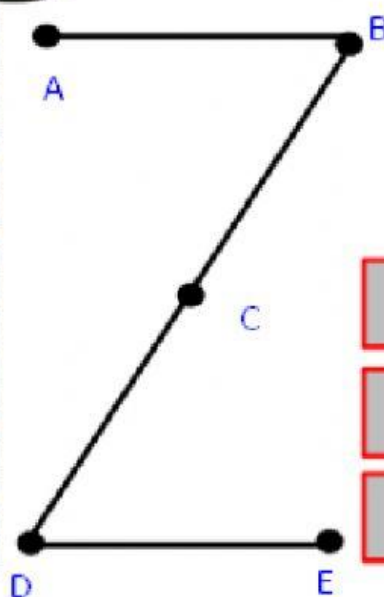
7 segmentos



3 segmentos

5 segmentos

4 segmentos



3 segmentos

4 segmentos

5 segmentos

