









Cuenta las fichas del ábaco y escribe el número que se forma en cada cuadro.

<p>1</p>  	<p>2</p>  
<p>3</p>  	<p>4</p>  

Lee las cantidades y une con el número correspondiente.

Doscientos veinticinco

350

Ciento treinta y tres

133

Trescientos cincuenta

740

Quinientos doce

681

Seiscientos ochenta y uno

512

Setecientos cuarenta

225

Dale click en cada parlante y escribe el número que corresponda en cada cuadro.

