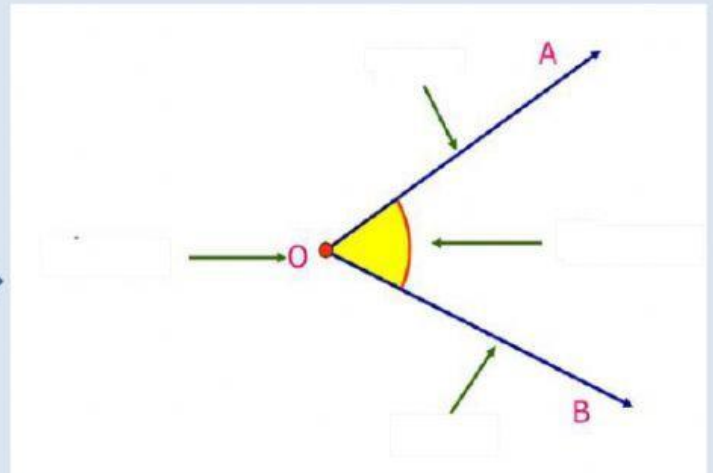
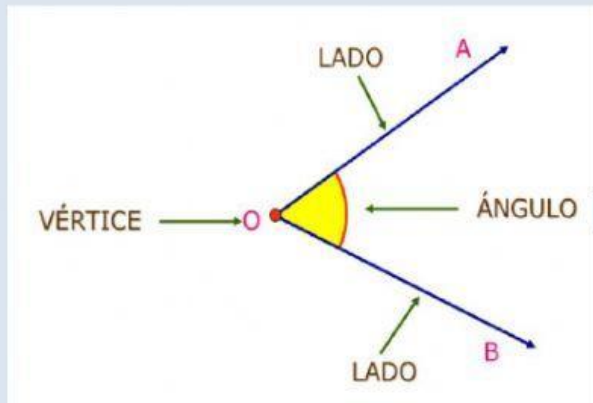
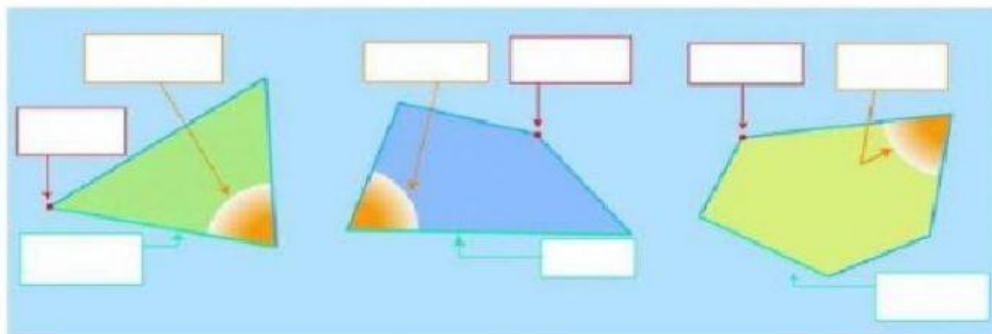


LADOS, VÉRTICES Y ÁNGULOS

Lee este esquema con mucha atención y completa el esquema de la derecha



1.- Coloca correctamente las etiquetas de estos polígonos:



2.-. Completa en cada polígono lo que te piden:

Tengo <input type="text"/> vértices y <input type="text"/> lados.	Tengo <input type="text"/> vértices y <input type="text"/> ángulos.	Tengo <input type="text"/> lados y <input type="text"/> ángulos.