



EXAMENE TRIMESTRAL DE CIENCIAS SOCIALES 4º



Nombre _____ Fecha: 1-9-2021

Indicaciones Generales: Realice el siguiente examen de manera individual siguiendo las indicaciones. Lea todas las indicaciones y conteste todas las preguntas para evitar perder puntos de un total de 70 puntos

1- Señala los tipos de barcos que cruzan por el Canal de acuerdo a lo explicado:



2- Señale el nombre de nuestro principal aeropuerto

Aeropuerto Internacional Marcos A. Gelabert.

Aeropuerto Internacional de Tocumen.

Aeropuerto Internacional Enrique A. Jiménez

3- Observa las imágenes y escribe en el recuadro, el nombre de la vía de comunicación al que corresponde.



Ardenor Marítima de Panamá



4-Principal vía acuática de Panamá.

Puente
Centenario

El Canal de
Panamá

Río Chagres

5- Las vías aéreas utilizan

El río

Las calles

Espacio aéreo

6- Menciones los corredores que existen en Panamá:

----- y -----

7- Une con una Flecha la imagen con el concepto que crees correcto.

Lo usas para
entretenerte e
informarte por medio
de sonido

Lo utilizas para
comunicarte con todo
el mundo a través del
internet

Te informa de noticias
de manera escrita



7- Mencione dos medios de comunicación individual:


8- Mencione 3 medios de comunicación masivo:

9-Observa las imágenes y coloca el número del medio de transporte al que pertenece.


1-TERRESTRE

2- ACUÁTICO


3- AÉREO



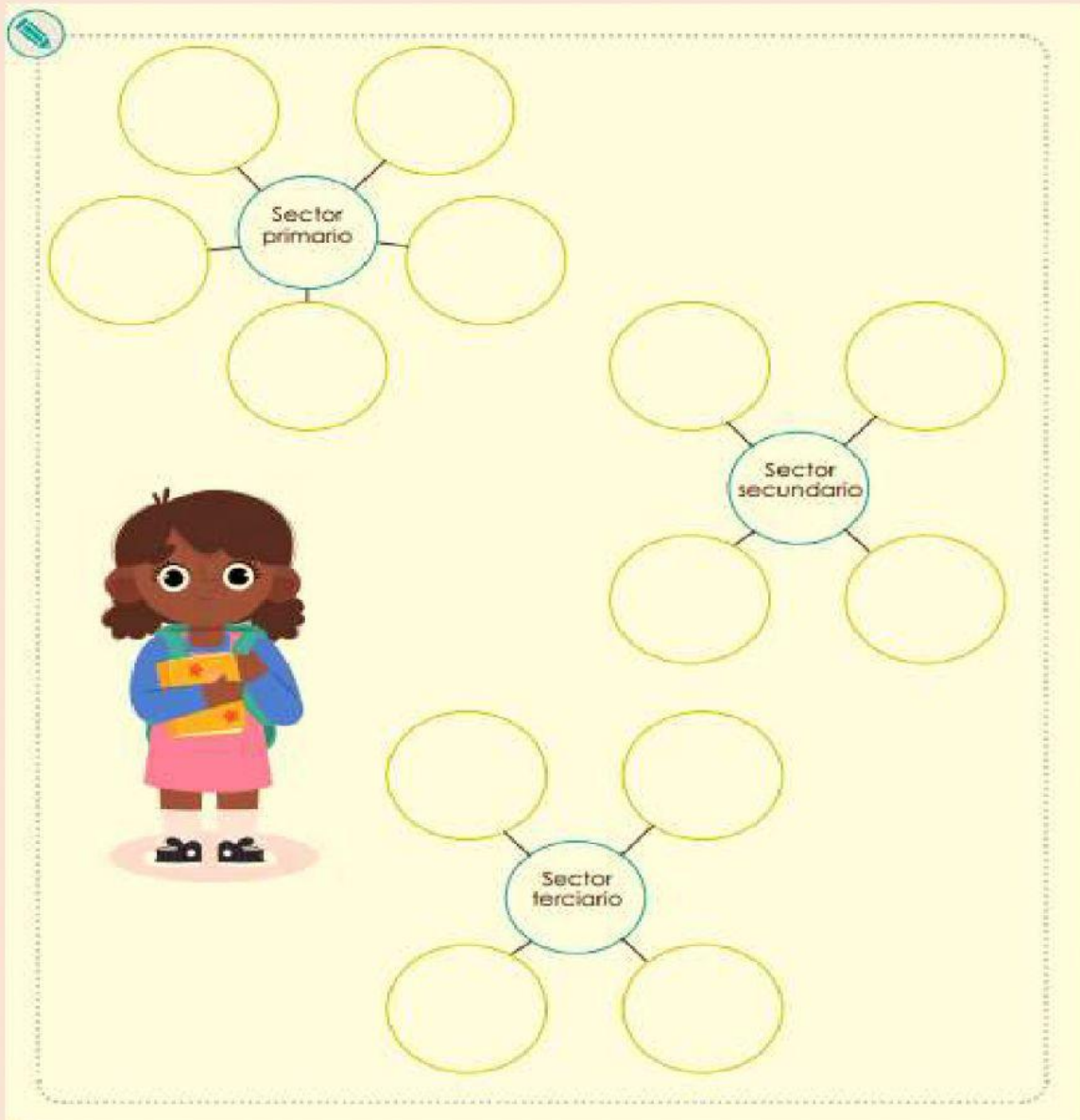
10- Coloca debajo de cada trabajo al sector que pertenecen:







10- Escribe en cada espacio las actividades económicas de los diferentes sectores



The worksheet is a yellow rectangular area with a dashed border. In the top-left corner, there is a small circular icon of a pencil. The worksheet contains three mind map structures, each with a central blue circle and four surrounding yellow circles connected by lines. The first mind map is labeled 'Sector primario' in its central circle. The second is labeled 'Sector secundario'. The third is labeled 'Sector terciario'. To the left of the 'Sector primario' and 'Sector secundario' mind maps is a cartoon illustration of a young girl with dark skin and curly hair, wearing a blue jacket over a pink shirt and a pink skirt, holding two yellow books. The entire worksheet is set against a light pink background.

TODO LO PUEDO EN CRISTO QUE ME FORTALECE.

FILIPENSES 4:13

