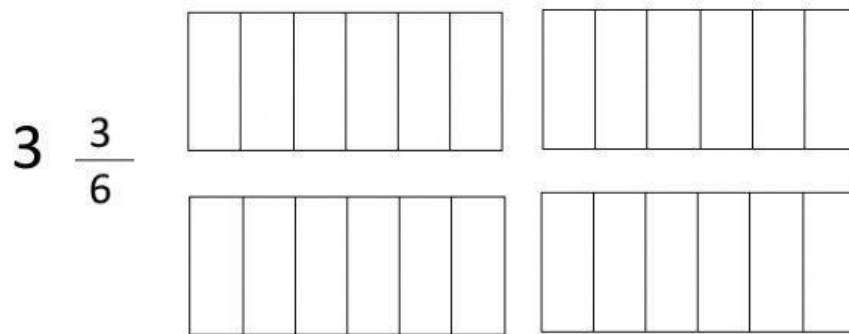







Actividad: Representar fracciones propias, impropias y números mixtos.

1. Marca cuantas partes se deberían colorear para representar cada fracción.

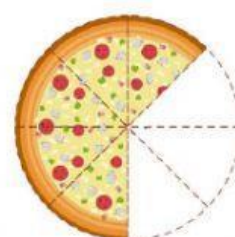


2. Escribe la fracción que esta representada











3. Completa fijándote bien en cada representación.

	Fracción impropia	Número mixto
1) 	<div><div></div><div></div></div>	<div><div></div><div></div></div>
2) 	<div><div></div><div></div></div>	<div><div></div><div></div></div>

4. Representa las siguientes fracciones en tu cuaderno.

$$\frac{9}{7}$$

$$\frac{4}{10}$$

$$1 \frac{5}{8}$$