



UNIDAD EDUCATIVA "SAGRADO CORAZÓN DE JESÚS"

Hermanas Bethlemitas- Ibarra

2021-2022

PRUEBA DE DIAGNÓSTICO

MATEMATICA

Nombre: _____

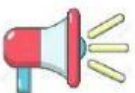
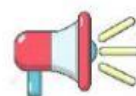
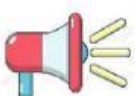
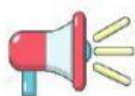
Fecha: _____ Año de EGB: 3 ° Paralelo: " "

Orientaciones:

- ✓ Escuche atentamente cada una de la preguntas.

CUESTIONARIO

1. Escucha y escribe los números al dictado.



2. Resuelve las siguientes adiciones.



6	5
3	4



7	6
1	0



5	4
2	3



UNIDAD EDUCATIVA "SAGRADO CORAZÓN DE JESÚS"

Hermanas Bethlemitas- Ibarra

2021-2022

3. Selecciona los signos según corresponda mayor que, $>$ menor que $<$ igual que $=$

55	<input type="text"/>	67
----	----------------------	----

99	<input type="text"/>	80
----	----------------------	----

70	<input type="text"/>	70
----	----------------------	----

54	<input type="text"/>	77
----	----------------------	----

66	<input type="text"/>	43
----	----------------------	----

4. Escribe el número anterior, posterior y entre según corresponda.

<input type="text"/>	55	<input type="text"/>
----------------------	----	----------------------

36	<input type="text"/>	38
----	----------------------	----

<input type="text"/>	28	<input type="text"/>
----------------------	----	----------------------

17	<input type="text"/>	19
----	----------------------	----

<input type="text"/>	67	<input type="text"/>
----------------------	----	----------------------

89	<input type="text"/>	91
----	----------------------	----



UNIDAD EDUCATIVA “SAGRADO CORAZÓN DE JESÚS”

Hermanas Bethlemitas- Ibarra

2021-2022

44	45	
----	----	--

	70	71
--	----	----

5. Lee y ubica la escritura que corresponde a cada cantidad.

<table border="1"><tr><td>79</td></tr></table>	79	<table border="1"><tr><td></td></tr></table>		<table border="1"><tr><td>Veintisiete</td></tr></table>	Veintisiete
79					
Veintisiete					
<table border="1"><tr><td>86</td></tr></table>	86	<table border="1"><tr><td></td></tr></table>		<table border="1"><tr><td>Treinta y cinco</td></tr></table>	Treinta y cinco
86					
Treinta y cinco					
<table border="1"><tr><td>35</td></tr></table>	35	<table border="1"><tr><td></td></tr></table>		<table border="1"><tr><td>Diecinueve</td></tr></table>	Diecinueve
35					
Diecinueve					
<table border="1"><tr><td>27</td></tr></table>	27	<table border="1"><tr><td></td></tr></table>		<table border="1"><tr><td>Ochenta y cinco</td></tr></table>	Ochenta y cinco
27					
Ochenta y cinco					
<table border="1"><tr><td>19</td></tr></table>	19	<table border="1"><tr><td></td></tr></table>		<table border="1"><tr><td>Setenta y nueve</td></tr></table>	Setenta y nueve
19					
Setenta y nueve					
		<table border="1"><tr><td>Ochenta y seis</td></tr></table>	Ochenta y seis		
Ochenta y seis					

6. Resuelve las siguientes sustracciones.

<table border="1"><tr><td>9</td><td>8</td></tr><tr><td>5</td><td>2</td></tr><tr><td></td><td></td></tr></table>	9	8	5	2			<table border="1"><tr><td>7</td><td>2</td></tr><tr><td>2</td><td>2</td></tr><tr><td></td><td></td></tr></table>	7	2	2	2			<table border="1"><tr><td>6</td><td>7</td></tr><tr><td>5</td><td>6</td></tr><tr><td></td><td></td></tr></table>	6	7	5	6		
9	8																			
5	2																			
7	2																			
2	2																			
6	7																			
5	6																			



UNIDAD EDUCATIVA “SAGRADO CORAZÓN DE JESÚS”

Hermanas Bethlemitas- Ibarra

2021-2022

7. Lee y resuelve los siguientes problemas matemáticos.

1.-En un bus viajan 24 pasajeros y suben en la siguiente parada 15 más.

¿Cuántos pasajeros van en el bus?

Datos:

pasajeros

más

Operación



<hr/>	



Respuesta

Van en el bus

3.-Darwin ha invitado a 94 personas a su fiesta. Si solo han llegado 22.

¿Cuántos invitados faltan por llegar?

Datos:

invitados

llegado

Operación



<hr/>	



Respuesta

Faltan



UNIDAD EDUCATIVA “SAGRADO CORAZÓN DE JESÚS”

Hermanas Bethlemitas- Ibarra

2021-2022

4.- Wendy tiene en su alcancía 25 \$ dólares. Ayer su papá le dio 13 \$ dólares y lo metió dentro. ¿Cuántos dólares tiene en su alcancía?

Datos:

dólares

papá le dio

Operación

	<input type="text"/>	<input type="text"/>
	<input type="text"/>	<input type="text"/>
<hr/>		
	<input type="text"/>	<input type="text"/>



Respuesta

Tiene ahorrado

.