

EVALUACIÓN MENSUAL DE RAZONAMIENTO MATEMÁTICO

Hijo(a) del Rey: _____

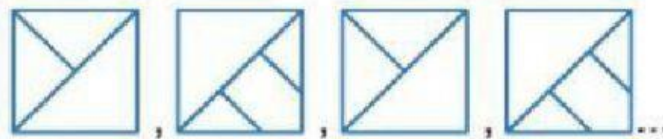
Grado: 4° Grado

Profesora : Cindy Condor Moreno

Fecha: 31/08/21

I. Halla la figura que sigue en la sucesión.

1 Indica la figura que sigue.




A)



B)

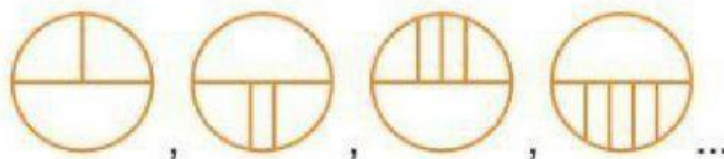


C)



D)

2 Halla la figura que sigue en la sucesión.



A)



B)



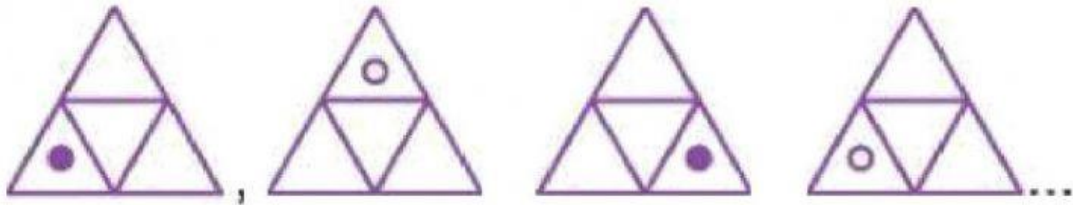
C)



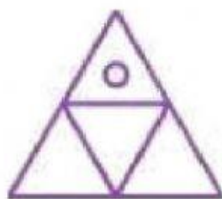
D)



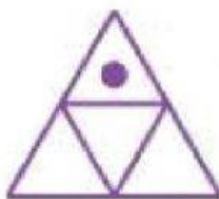
3 Halla la figura que sigue en la sucesión.



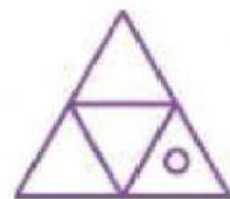
A)



B)

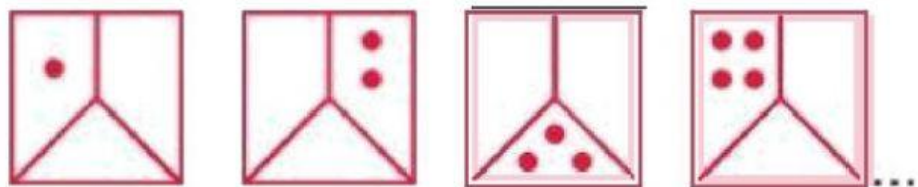


C)

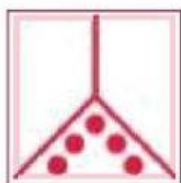


D)

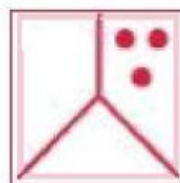
4 Indica la figura que continúa en la sucesión.



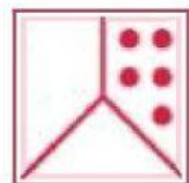
A)



B)




C)



D)



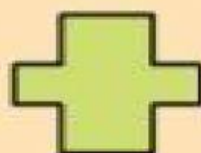
II. En cada caso halla la analogía.




a)



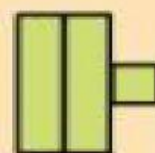
b)



c)



d)



e)



a)



b)



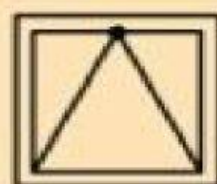
c)



d)



e)



a)



b)



c)



d)



e)



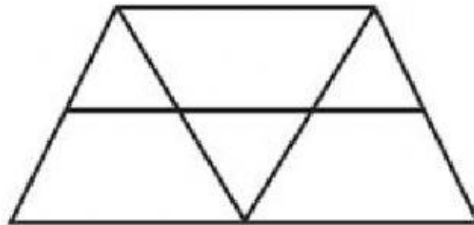
Hijos del Rey
I.E.P.

Yo Soy Jesús
Una educación en valores formando el carácter del niño

III. Halla la cantidad de figuras.

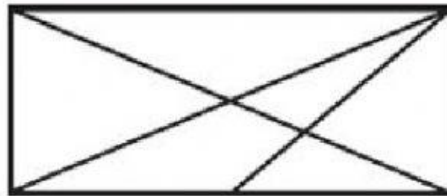
1

¿Cuántos triángulos como máximo observas?



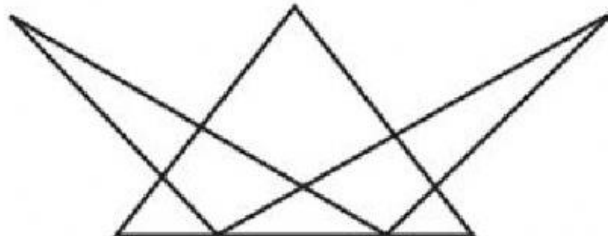
2

¿Cuántos triángulos como máximo observas?



3

¿Cuántos triángulos como máximo observas?



4

¿Cuántos triángulos en total hay en la siguiente figura?

