

NAMA :

KELAS :

LEMBAR KERJA PESERTA DIDIK (LKPD) Perkembangbiakan pada Tumbuhan

1. Reproduksi Tumbuhan *Angiospermae*

A. Perkembangbiakan Vegetatif

a. Perkembangbiakan vegetatif alami

Perkembangbiakan vegetatif alami (spora, tunas, tunas adventif, rhizoma, stolon, umbi akar, umbi batang, umbi lapis), **Pilihlah perkembangbiakan vegetatif alami yang tepat dari gambar berikut!**

Spora

Tunas








Tunas Adventif

Rhizoma

Stolon

Umbi Akar

Umbi Batang



NAMA :

KELAS :


LEMBAR KERJA PESERTA DIDIK (LKPD) Perkembangbiakan pada Tumbuhan

b. Perkembangbiakan vegetatif buatan


Urutkan cara perkembangbiakan vegetatif buatan (MENCANGKOK) berikut dengan cara, *urutkanlah tata cara mencangkok ke dalam kotak yang tersedia!*



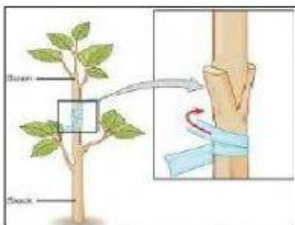
Pasangkanlah gambar kiri dengan kotak sebelah kanan dengan cara menarik garis lurus!



MERUNDUK



STEK



OKULASI



MENYAMBUNG