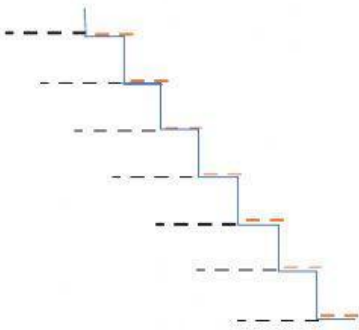


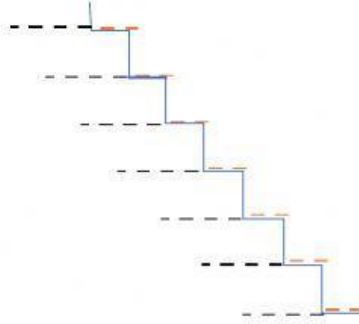
Magnitudes geométricas

Escriba de manera correcta las medidas de longitud, superficie y capacidad los múltiplos y submúltiplo con sus respectivas abreviaturas.

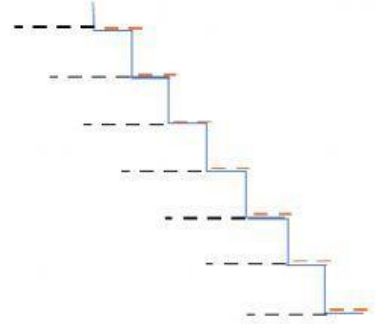
Longitud



Superficie



Capacidad



Resuelve el siguiente problema.

Todos los días David y Jimmy recorren 7 km y 170 metros en bicicleta para llegar a la casa de Emanuel. Hoy pedaleando las dos bicicletas se les reventaron las llantas y han recorrido 3 km y medio. ¿Cuántos metros les falta de recorrer en bicicleta para llegar a la meta?

Aun les falta por recorrer



Pasar las medidas de capacidad a la unidad indicada.

10 kl a l

30 dal a ml

500 hl a dl

7000 ml a l

345 cl a hl

7000dl a dal