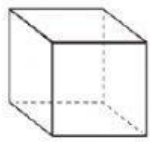


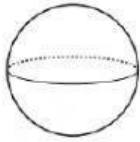


Figuras 3D

Caras, aristas y vértices

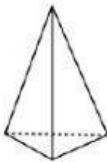
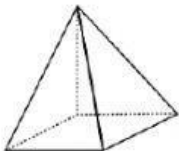
1 Completa la tabla.

(a)

				
Nombre				
Nº de caras				
Nº de aristas				
Nº de vértices				

2 Completa la tabla de las pirámides.

(b)

Figura 3D	Nombre	Nº caras	Nº aristas	Nº vértices
				
				

3 Escribe el nombre de la figura 3D de cada adivinanza.

a

Tiene una base cuadrada y sus caras son triangulares



d

Tiene una cara circular



b

No tiene vértices



e

Tiene 2 caras circulares



c

Se forma al colocar 3 cubos uno encima del otro



f

Tiene 4 caras y son triangulares

