

Taller de Matemáticas 1

Nombre: _____

Docente: Lic. Verónica Reyes Silva

Curso: 9no "A"

Parcial: Segundo Quimestre: Primero

Fecha de envío: 30/08/2021. Fecha de entrega: 30/08/2021.

Tema: Adición y sustracción de polinomios

Actividad 1.- Escribe (V) si la afirmación es verdadera y (F) si es falsa.

- a. El opuesto del polinomio $-7xy + 11y$ es el polinomio $7xy - 11y$. ()
- b. $3x^4 - 2x = x^3$. ()
- c. Al restar $28xy^2$ de $35xy^2$, se obtiene $-7xy^2$. ()
- d. En la adición de polinomios se utiliza el polinomio opuesto. ()

Actividad 2.- Determina el perímetro de las figuras. Coloca el literal donde corresponde.

a.

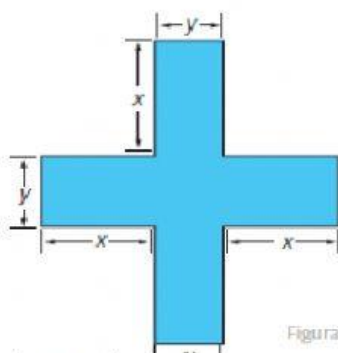


Figura 4

() $15x + 25y$

b.

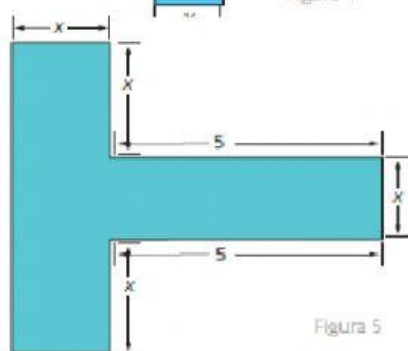


Figura 5

() $8x + 4y$

c.

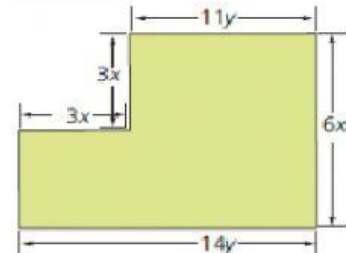


Figura 6

() $8x + 10$